

SÃO JOSÉ DO RIO PRETO - SP

PREFEITURA MUNICIPAL DE SÃO JOSÉ
DO RIO PRETO - SÃO PAULO

Praticando 400 questões
gabaritadas - GCM
Guarda Civil Municipal
– 3ª Classe



CÓD: SL-112JH-24
7908433258292

Questões Gabaritadas:

1. Língua Portuguesa	5
2. Matemática e Raciocínio Lógico	55
3. Noções de informática	77
4. Conhecimentos Específicos	105

LÍNGUA PORTUGUESA

1. VUNESP - 2023

Leia o texto para responder à questão.

Casas amáveis

Vocês me dirão que as casas antigas têm ratos, goteiras, portas e janelas empenadas, trincos que não correm, encanamentos que não funcionam. Mas não acontece o mesmo com tantos apartamentos novinhos em folha?

Agora, o que nenhum arranha-céu poderá ter, e as casas antigas tinham, é esse ser humano, esse modo comunicativo, essa expressão de gentileza que enchem de mensagens amáveis as ruas de outrora.

Havia o feito da casa: os chalés, com aquelas rendas de madeira pelo telhado, pelas varandas, eram uma festa, uma alegria, um vestido de noiva, uma árvore de Natal.

As casas de platibanda expunham todos os seus dispartes felizes: jarros e compoteiras lá no alto, moças recostadas em brasões, pássaros de asas abertas, painéis com datas e monogramas em relevos de ouro. Tudo isso queria dizer alguma coisa: as fachadas esforçavam-se por falar. E ouvia- -se a sua linguagem com enternecimento. Mas, hoje, quem se detém a olhar para rosas esculpidas, acentos, estrelas, cupidos, esfinges, cariátides? Eram recordações mediterrâneas, orientais: mitologia, paganismo, saudade.

Agora, os andaimes sobem, para os arranha-céus vitoriosos, frios e monótonos, tão seguros de sua utilidade que não podem suspeitar da sua ausência de gentileza.

Qualquer dia, também desaparecerão essas últimas casas coloridas que exibem a todos os passantes suas ingênuas alegrias íntimas — flores de papel, abajures encarnados, colchas de franjas — e suas rissonhas proprietárias têm sempre um Y no nome, Yara, Nancy, Jeny... Ah! não veremos mais essas palavras, em diagonal, por cima das janelas, de cortininhas arregaçadas, com um gatinho dormindo no peitoril.

Afinal, tudo serão arranha-céus.

E eis que as ruas ficarão profundamente tristes, sem a graça, o encanto, a surpresa das casas, que vão sendo derubadas. Casas suntuosas ou modestas, mas expressivas, comunicantes. Casas amáveis.

(Cecília Meireles. Escolha o seu Sonho. Adaptado)

Vocabulário:

- **Platibandas:** espécies de mureta construída na parte mais alta das paredes externas de uma construção, para proteger e ornamentar a fachada. **Compoteiras:** elementos ornamentais parecidos com vasos.
- **Monogramas:** siglas formadas por uma ou várias letras, conjuntas ou entrelaçadas, significando um símbolo ou a inicial, ou iniciais, de um nome.
- **Cariátides:** suportes arquitetônicos, originários da Grécia antiga, que se apresentavam quase sempre com a forma de uma estátua feminina e cuja função era sustentar um entablamento

Na passagem *... por cima das janelas, de **cortininhas** arregaçadas, com um **gatinho** dormindo no peitoril.”, o diminutivo dos substantivos indica

- (A) zombaria nos dois empregos.
- (B) crítica no primeiro emprego, e tamanho no segundo.
- (C) tamanho primeiro emprego, e intensidade no segundo.
- (D) ironia no primeiro emprego, e desdém no segundo.
- (E) afetividade nos dois empregos.

2. VUNESP - 2023

O vocábulo **tubarão-martelo** tem dois plurais: as formas **tubarões-martelos** e **tubarões-martelo**.

O mesmo ocorre com o vocábulo:

- (A) abaixo-assinado.
- (B) escola-modelo.
- (C) guarda-roupa.
- (D) meio-fio.
- (E) recém-contratado.

3. VUNESP - 2023

A expressão “objetos de marfim” pode ser reescrita como “objetos ebúrneos”. Assinale a alternativa em que há correta equivalência entre as expressões:

- (A) problemas do coração – problemas corolários.
- (B) restrições de idade – restrições etárias.
- (C) programas de criança – programas juvenis.
- (D) organização da cidade – organização cidadã.
- (E) identidade do pai – identidade fraterna.

4. VUNESP - 2023

Leia o poema para responder à questão.
naquela época
ainda não era possível ligar e desligar
pessoas
e você era obrigado a
conversar pessoalmente
brigar pessoalmente
amar pessoalmente
mentir pessoalmente
e demitir pessoas pessoalmente
a vida era muito mais difícil
e bela

(André Dahmer. *Impressão sua: poemas*. São Paulo: Cia das Letras, 2021)

No poema, o vocábulo que expressa circunstância de modo é:

- (A) ainda.
- (B) pessoalmente.
- (C) muito.
- (D) mais.

5. VUNESP - 2023**Texto***Trabalho a preservar*

São dignos de celebração os números que mostram a expressiva queda do desemprego no país ao longo do ano passado, divulgados pelo IBGE.

Encerrou-se 2022 com taxa de desocupação de 7,9% no quarto trimestre, ante 11,1% medidos 12 meses antes e 14,2% ao final de 2020, quando se vivia o pior do impacto da pandemia. Trata-se da melhora mais longa e aguda desde o fim da recessão de 2014-16.

Isso não quer dizer, claro, que se viva um momento brilhante de pujança econômica e ascensão social. Há senões, a começar pelo rendimento médio do trabalho de R\$ 2.808 mensais – que, embora tenha aumentado recentemente, ainda é o menor em cinco anos.

As médias, ademais, escondem desigualdades de todos os tipos. O desemprego entre as mulheres nordestinas ainda atinge alarmantes 13,2%, enquanto entre os homens do Sul não passa de 3,6%.

Nada menos que 16,4% dos jovens de 18 a 24 anos em busca de ocupação não a conseguem. Entre os que se declaram pretos, a taxa de desocupação é de 9,9%, ante 9,2% dos pardos e 6,2% dos brancos.

Pode-se constatar, de qualquer modo, que o mercado de trabalho se tornou mais favorável em todos os recortes, graças a um crescimento surpreendente da economia, em torno dos 3% no ano passado.

(Editorial. *Folha de S. Paulo*, 28.02.2023. Adaptado)

Considere as passagens:

- Isso não quer dizer, **claro**, que se viva um momento brilhante de pujança econômica e ascensão social. (3º parágrafo)
- ... embora tenha aumentado **recentemente**, **ainda** é o menor em cinco anos. (3º parágrafo)
- As médias, **ademais**, escondem desigualdades de todos os tipos. (4º parágrafo)

Os termos destacados expressam, **correta e respectivamente**, circunstâncias de

- (A) intensidade; modo; tempo; concessão.
- (B) afirmação; tempo; tempo; inclusão.
- (C) modo; tempo; afirmação; intensidade.
- (D) causa; modo; afirmação; inclusão.
- (E) afirmação; tempo; modo; comparação.

6. VUNESP - 2023**Copa inspira a busca de consensos**

A Copa do Mundo do Catar foi rica em lições. A competição pacífica entre países com diferentes regimes políticos e econômicos registrou manifestações, opiniões e posicionamentos fortes ao longo do torneio. O evento demonstrou, à perfeição, que a natureza está talhada para a convivência entre os diferentes a fim de construir pilares civilizatórios.

Assim como se queria a vitória da própria seleção, também se protestou a favor da diversidade e dos direitos humanos, o que incluiu a participação direta de algumas seleções.

Em meio à emoção que o futebol desperta, o congratamento espontâneo entre os povos nos ensina que a métrica da evolução tem três dimensões: conviver, compartilhar e convergir.

O clima é de festa e inclusão. Entre as bandeiras presentes, prevalecem as que trazem mensagens de paz e fraternidade.

Trabalhos acadêmicos mostram que competições de magnitude universal, assim como os Jogos Olímpicos, contribuem para reduzir tensões e elevar sentimentos de pertencimento e orgulho nas populações. A hora do jogo é também o que define o sentimento patriótico, aquela união que não se explica, se sente. Começa na infância, segue no colégio e avança para a vida adulta. Divergências são deixadas de lado em nome do ideal maior da vitória ou solidariedade na derrota pertencente a todos. As equipes representam esse conjunto, buscam o mesmo objetivo e despertam, sem exceções, orgulho e admiração pelas cores da sua bandeira e pelo canto do hino nacional.

A paz e a democracia devem ser a essência do patriotismo. A seleção brasileira de futebol é uma das melhores do mundo. Para estender a excelência das seleções campeãs para a economia, podemos replicar alguns princípios. Um deles diz que a vitória é resultado da dedicação de um time inteiro, não de um único jogador.

(Luiz Carlos Trabuco Cappi. *O Estado de S.Paulo*, 5 de dezembro de 2022. Adaptado)

Considere os trechos em negrito nas alternativas a seguir e assinale aquela em que se apresentam, correta e respectivamente, palavras e/ou expressões que indicam circunstância de modo e sentido de inclusão.

- (A) ... o evento demonstrou, **à perfeição**, que a natureza... (1º parágrafo) / Assim como se quer a vitória da própria seleção, **também** se protesta... (2º parágrafo)
- (B) ... convivência entre os diferentes **a fim de** construir pilares civilizatórios. (1º parágrafo) / **Em meio à** emoção que o futebol desperta... (3º parágrafo)
- (C) ... posicionamentos fortes **ao longo do torneio**... (1º parágrafo) / A competição pacífica **entre** países... (1º parágrafo)
- (D) Começa **na infância**... (5º parágrafo) / ... e avança **para a vida adulta**. (5º parágrafo)
- (E) **Assim como** se quer a vitória da própria seleção... (2º parágrafo) / ... também se protesta **a favor da** diversidade... (2º parágrafo)

7. VUNESP - 2023

Leia o texto para responder à questão.

Quando o assunto é morte, muita gente segue a tradição de velar e enterrar seus entes queridos, mas há quem pense em alternativas para o próprio enterro. As formas ecológicamente corretas de se despedir dos mortos estão cada vez mais populares, à medida que as pessoas buscam maneiras mais conscientes e humanizadas de lidar com a situação. Os enterros sustentáveis, alternativos e inovadores têm ganhado destaque nos últimos anos, trazendo à tona novas práticas como a compostagem humana, a liquefação do corpo e a utilização de roupas de cogumelos, as quais limpam as toxinas humanas reduzindo a poluição dos solos.

Nos últimos anos, a preocupação com o meio ambiente tem se intensificado. “Hoje, a preocupação em colaborar com as gerações futuras e com a preservação da natureza e das espécies tem se tornado cada vez mais importante. É nesse contexto que se destaca a discussão sobre as formas de sepultamento e enterro”, afirma o professor Rubens Beçak da Faculdade de Direito de Ribeirão Preto (FDRP) da USP.

O professor afirma que existem dois tipos de sepultamento no Brasil: o tradicional e a incineração. O sepultamento tradicional é o enterro dos corpos em caixões de madeira. Ele conta com uma série de regras para a preservação da saúde pública e do meio ambiente, como a proteção dos lençóis freáticos contra a contaminação. “Mas essas legislações nem sempre são seguidas e a poluição do solo, os desmatamentos das áreas para a construção de cemitérios e a liberação do CO2 são inevitáveis. A incineração, embora menos prejudicial, ainda é extremamente poluente”, relata Beçak.

Assim, embora ainda não haja legislação específica sobre o assunto no Brasil, é evidente que há uma demanda crescente por outras formas de enterro. “É possível que, em breve, as normas dos municípios brasileiros sejam atualizadas para atender a essa demanda, uma vez que a questão tem se mostrado relevante”, afirma Beçak.

(Júlia Valeri. *Enterros ecológicos e inovadores ajudam na aceitação do luto e da morte*. *Jornal da USP*, 23 de maio de 2023. Adaptado)

No trecho – É possível que, **em breve**, as normas dos municípios brasileiros sejam atualizadas... – a expressão em destaque expressa circunstância de

- (A) modo.
(B) afirmação.
(C) dúvida.
(D) intensidade.
(E) tempo.

8. VUNESP - 2023

Leia o texto para responder à questão seguinte.

Quando arqueólogos descobriram uma tumba na Espanha, datada de quase 5 000 anos e **contendo artigos luxuosos como um punhal feito com cristal de rocha**, casca de um ovo de avestruz e uma presa de elefante africano, perceberam que a pessoa enterrada ali era uma figura poderosa. O que eles não sabiam é que se tratava de uma mulher.

Pesquisadores divulgaram que a análise do esmalte dos dentes mostrou que **o corpo sepultado no local perto de Sevilha não era de um homem**, como se pensava anteriormente. A descoberta indica o papel de liderança que as mulheres desempenhavam **nessa sociedade antiga, anterior às pirâmides do Egito, e talvez em outros lugares**.

Embora os pesquisadores não saibam exatamente quem ela era ou que papel social desempenhava, suspeitam que ela combinava poder político e religioso e é possível que fosse considerada a fundadora de um clã importante. Nenhum homem de posição semelhante foi encontrado no local.

“Esse estudo lança uma nova luz sobre um problema do qual sabemos muito pouco: o papel social e político das mulheres nas primeiras sociedades pré-estatais complexas”, disse Leonardo García Sanjuán, professor de pré-história da Universidade de Sevilha.

A Dama de Marfim, assim apelidada por haver objetos de marfim finamente trabalhados que a cercam na sepultura, mostra que as mulheres podem ter ocupado altos cargos de liderança durante a **Idade do Cobre, um período de transição entre a Idade da Pedra e a Idade do Bronze.**

“O terceiro milênio antes de Cristo é uma época de grandes transformações. Na Mesopotâmia e no Egito, os primeiros séculos do terceiro milênio correspondem _ primeiras sociedades dinásticas”, disse García Sanjuán.

“Na Península Ibérica, é um momento de maior complexidade social, em que se intensificou _ produção e houve maior disponibilidade de excedentes, além de uma crescente conectividade inter-regional e aumento da desigualdade social e da hierarquia política. A Dama de Marfim reflete todos esses elementos”, acrescentou.

Nesse período, houve na Península Ibérica sociedades complexas, mas que antecederam _ formação de entidades políticas como estados.

(Will Dunham. Dama de Marfim sepultada na Espanha revela o papel de liderança de mulheres na antiguidade. www1.folha.uol.com.br, 08.07.2023. Adaptado)

Assinale a alternativa em que o vocábulo destacado introduz ideia de **causa**.

- (A) ... contendo artigos luxuosos como um punhal feito **com** cristal de rocha...
- (B) ... o corpo sepultado no local perto de Sevilha não era **de** um homem...
- (C) ... nessa sociedade antiga, anterior às pirâmides do Egito, e talvez **em** outros lugares.
- (D) A Dama de Marfim, assim apelidada **por** haver objetos de marfim finamente trabalhados...
- (E) ... a Idade do Cobre, um período de transição **entre** a Idade da Pedra e a Idade do Bronze.

9. VUNESP - 2024

Leia o texto para responder a questão.

Conforme as temperaturas aumentam, alguns grupos de pessoas são expostos a riscos. Idosos, por exemplo, são particularmente sensíveis ao calor extremo; contudo, temperaturas mais altas podem começar a afetar jovens e pessoas saudáveis.

(https://super.abril.com.br. Adaptado)

Conforme o sentido que estabelece no texto, a conjunção “contudo” pode ser substituída por

- (A) ou.
- (B) pois.
- (C) assim.
- (D) porém.
- (E) tanto que.

10. VUNESP - 2024

Quantas vezes você respondeu uma pergunta com “sim”, quando, na verdade, sua vontade era de dizer “não”? Ainda que você não se considere uma pessoa com dificuldade em dizer “não”, provavelmente é incapaz de contabilizar quantas vezes deixou de dar uma resposta negativa por receio do que o outro pensaria.

O famoso “vou ver e te aviso!” após receber um convite de alguém denuncia o jeitinho brasileiro de temer desagradar ao outro. No entanto, essa atitude, aparentemente inocente, é nociva e pode desencadear grandes malefícios ao indivíduo, que se anula na tentativa de satisfazer o outro.

A psicóloga Juliana Gebrim explica que aprender a dizer “não” de maneira assertiva é fundamental para preservar o equilíbrio emocional e estabelecer relacionamentos saudáveis: “Quando alguém tem dificuldade em dizer ‘não’, podem surgir diversos malefícios, tais como: sobrecarga de responsabilidades, levando ao esgotamento físico e mental; e sentimentos de ressentimento, prejudicando relacionamentos e o bem-estar emocional”.

A professora bilíngue Indyara Moreira confessa que já manteve amizade com pessoas que a incomodavam por longos períodos, justamente por não querer deixar o outro desconfortável, mas atualmente reconhece que foi injusta consigo mesma. Ela relata que há um tempo mantinha amizade com uma mulher bastante inconveniente que a deixava desconfortável, então evitava responder às mensagens e atender as ligações vindas dessa pessoa, mas que um dia, ao chegar em casa, se deparou com a moça e o seu esposo sozinhos em sua casa e, em meio ao constrangimento da cena, Indyara teve de escutar que não foi comunicada da visita por ser mais fácil falar com seu esposo do que com ela.

(Letícia Guedes. Problemas em dizer “não”? Dificuldade pode causar danos a saúde mental. www.correiobraziliense.com.br, 14.01.2024. Adaptado)

No trecho “Quantas vezes você respondeu uma pergunta com ‘sim’, **quando**, na verdade, sua vontade era de dizer ‘não’?” (1º parágrafo), o vocábulo destacado pode ser substituído, sem prejuízo do sentido e da correção gramatical, por:

- (A) uma vez que
- (B) de modo que

MATEMÁTICA E RACIOCÍNIO LÓGICO

1. VUNESP - 2023

Um carteiro entregou todas as cartas que trazia em seu veículo em 6 prédios vizinhos. No primeiro prédio ele deixou 200 cartas, no segundo prédio, deixou um quarto das cartas que ainda restavam, no terceiro prédio, deixou 100 cartas, no quarto prédio, deixou um quarto das cartas que ainda restavam, no quinto prédio, deixou 300 cartas e, no sexto prédio, deixou todas as cartas que ainda restavam. Se o número de cartas que esse carteiro deixou no segundo prédio e no sexto prédio foi o mesmo, o número de cartas que foi entregue nesses 6 prédios estava compreendido entre

- (A) 1.050 e 1.150.
- (B) 1.150 e 1.250.
- (C) 1.250 e 1.350.
- (D) 1.350 e 1.450.
- (E) 1.450 e 1.550.

2. VUNESP - 2023

Uma escola organizou uma viagem para 306 pessoas. A viagem precisaria ser feita com vans de 12 lugares, cujo preço era de R\$ 1.250,00 por van, ou com vans de 18 lugares, cujo preço era de R\$ 1.800,00 por van.

A viagem foi feita com o orçamento mais barato, que, em comparação com o outro, gerou uma economia de

- (A) R\$ 1.750,00.
- (B) R\$ 1.900,00.
- (C) R\$ 2.150,00.
- (D) R\$ 2.450,00.
- (E) R\$ 2.520,00.

3. VUNESP - 2023

Durante todo o ano de 2022, Alex participou de um torneio de corrida a cada 20 dias, e de um torneio de natação a cada 24 dias. No dia 1o de janeiro daquele ano ele participou desses dois tipos de torneio, corrida e natação. No ano de 2022, o número de dias que Alex participou, em um mesmo dia, de um torneio de natação e de um torneio de corrida foi

- (A) 3.
- (B) 4.
- (C) 5.

- (D) 6.
- (E) 7.

4. VUNESP - 2023

Uma doação de livros foi feita para a biblioteca de uma escola e ficou combinado que todos os alunos do ensino médio ajudariam a buscar, cada um, 100 livros. Na semana combinada para os alunos buscarem os livros, 6 deles comunicaram que não poderiam ajudar e, para trazer todos os livros, os alunos que ajudaram trouxeram, cada um, 108 livros. O número de livros doados está compreendido entre

- (A) 8 000 e 8 500.
- (B) 8 500 e 9 000.
- (C) 9 500 e 10 000.
- (D) 10 000 e 10 500.
- (E) 10 500 e 11 000.

5. VUNESP - 2023

Para participação em uma corrida de rua, cada atleta teve que fazer sua inscrição comprando um kit de corrida, completo ou básico. O kit completo custou R\$ 80,00, e o kit básico, R\$ 50,00. No total, 400 pessoas fizeram a inscrição para a corrida e o valor total arrecadado com a venda dos kits foi R\$ 23.420,00. O número de kits básicos que foram vendidos está compreendido entre

- (A) 50 e 100.
- (B) 100 e 150.
- (C) 150 e 200.
- (D) 200 e 250.
- (E) 250 e 300.

6. VUNESP - 2023

Flora demorou certo tempo para executar determinada tarefa. Sabendo-se que o dobro desse tempo adicionado ao triplo desse tempo é igual a 6 horas, conclui-se que para executar essa tarefa Flora demorou

- (A) 1 hora e 12 minutos.
- (B) 1 hora e 18 minutos.
- (C) 1 hora e 20 minutos.
- (D) 1 hora e 25 minutos.
- (E) 1 hora e 30 minutos.

7. VUNESP - 2023

Para responder à questão, considere a seguinte situação:

Edna está encarregada da compra de lápis e canetas para a escola em que trabalha. A loja onde será feita a compra vende os lápis e as canetas apenas em kits, sendo que os kits de lápis possuem 72 unidades, e os kits de canetas, 20 unidades.

Supondo que cada kit com lápis seja vendido nessa loja a R\$ 39,60, é correto afirmar que cada unidade de lápis nesse kit possui valor correspondente a

- (A) R\$ 0,50.
- (B) R\$ 0,52.
- (C) R\$ 0,54.
- (D) R\$ 0,55.
- (E) R\$ 0,58.

8. VUNESP - 2024

De acordo com o Anuário Brasileiro de Segurança Pública 2022, a razão entre o número de Tenentes Coronéis e o número de Majores, na Polícia Militar do Estado de São Paulo, em 2022, podia ser representada por $\frac{66}{133}$.

Se, de acordo com o anuário citado, o número de Majores era 4 unidades maior que o dobro do número de Tenentes Coronéis no referido ano e Estado, então a diferença entre a quantidade de policiais militares dessas duas patentes era igual a

- (A) 258.
- (B) 262.
- (C) 260.
- (D) 264.
- (E) 268.

9. VUNESP - 2024

Gustavo leu um livro em 4 dias. No primeiro dia ele leu 25 páginas e no segundo dia leu dois quintos das páginas que ainda faltavam. No terceiro dia, Gustavo leu três quartos das páginas que ainda faltavam e no último dia leu as páginas restantes, que corresponde a 55 páginas a menos do que leu no segundo dia. O número de páginas desse livro está compreendido entre

- (A) 150 e 200.
- (B) 200 e 250.
- (C) 250 e 300.
- (D) 300 e 350.
- (E) 350 e 400.

10. VUNESP - 2024

Em um depósito há frascos do produto A e frascos do produto B, no total de 200 frascos, de modo que a razão do número de frascos do produto A para o número de frascos do produto B é $\frac{2}{3}$.

Após a venda de 30 frascos do produto A e de N frascos do produto B, a razão do número de frascos do produto A para o número de frascos do produto

B passou a ser $\frac{1}{2}$. O número N de frascos vendidos do produto B foi

- (A) 35.
- (B) 30.
- (C) 25.
- (D) 20.
- (E) 15.

11. VUNESP - 2024

Uma pessoa possui uma coleção com determinado número de CDs, dos quais $\frac{3}{8}$ são de música clássica. Entre os demais CDs, $\frac{4}{5}$ são de Música Popular Brasileira (MPB), e os 20 CDs restantes são de gêneros musicais variados. O número de CDs de MPB é

- (A) 100.
- (B) 90.
- (C) 80.
- (D) 70.
- (E) 60.

12. VUNESP - 2023

Segundo dados do IBGE, em 2010, a população urbana de Marília era de, aproximadamente, 207 000 pessoas. Considerando-se que a população urbana representava, à

época, cerca de $\frac{23}{24}$ da população, então a população de Marília naquele ano era de, aproximadamente,

- (A) 8 625.
- (B) 9 000.
- (C) 198 375.
- (D) 207 000.
- (E) 216 000.

13. VUNESP - 2023

Em um escritório há determinado número de pastas divididas em 6 prateleiras de uma estante. Nas 3 primeiras prateleiras foi colocado, em cada uma delas, $\frac{1}{5}$ do número total de pastas, na 4ª e na 5ª prateleira foi colocado, em cada uma delas, $\frac{1}{8}$ do número total de pastas e na última prateleira foram colocadas 54 pastas. O número de pastas colocadas na 1ª prateleira foi

- (A) 45.
- (B) 72.
- (C) 50.
- (D) 80.
- (E) 64.

14. VUNESP - 2023

Um certo número de pessoas foi separado em alguns grupos para uma atividade de socialização. Com $\frac{2}{5}$ do total de pessoas, formou-se o primeiro grupo. Foram 21 pessoas que formaram o segundo grupo. O terceiro e último grupo tinha $\frac{3}{4}$ do número de pessoas do primeiro grupo.

O segundo e o terceiro grupos, somados, superam o primeiro grupo em um número de pessoas igual a

- (A) 10.
- (B) 12.
- (C) 13.
- (D) 14.
- (E) 16.

15. VUNESP - 2023

Em uma clínica veterinária trabalha determinado número de médicos, dos quais $\frac{1}{3}$ trabalha em período integral. Entre os demais médicos, $\frac{5}{8}$ só trabalham no período da manhã e os 3 médicos restantes só trabalham no período da tarde. O número de médicos que só trabalha no período da manhã é

- (A) 2.
- (B) 3.
- (C) 4.
- (D) 5.
- (E) 6.

16. VUNESP - 2023

Em um curso de especialização está matriculado determinado número de alunos, sendo que a razão do número de alunos com 30 anos ou mais para o número de alunos com menos de 30 anos é $\frac{2}{5}$. Se o número de alunos com 30 anos ou mais, matriculados nesse curso, é 12, então, o número de alunos com menos de 30 anos supera o número de alunos com 30 anos ou mais em

- (A) 18.
- (B) 20.
- (C) 24.
- (D) 28.
- (E) 30.

17. VUNESP - 2023

Em determinado dia, uma clínica, que só abre nos períodos da manhã e da tarde, atendeu 24 pacientes, de modo que o número de pacientes atendidos no período da tarde foi igual a $\frac{5}{3}$ do número de pacientes atendidos no período da manhã. O número de pacientes atendidos no período da tarde superou o número de pacientes atendidos no período da manhã em

- (A) 2.
- (B) 3.
- (C) 4.
- (D) 5.
- (E) 6.

18. VUNESP - 2023

As quantidades, em mL, dos líquidos A e B colocados em um frasco, inicialmente vazio, estão na razão de 8 para 3, nessa ordem. Se a mistura formada no frasco contém um total de 440 mL, então a quantidade do líquido A colocada nesse frasco foi igual a

- (A) 120 mL.
- (B) 140 mL.
- (C) 210 mL.
- (D) 280 mL.
- (E) 320 mL.

19. VUNESP - 2023

Em uma prateleira há 3 recipientes, dispostos em ordem crescente de capacidade. Sabe-se que as capacidades do segundo e do terceiro recipientes são iguais, respectivamente, a $\frac{6}{5}$ e a $\frac{3}{2}$ da capacidade do primeiro recipiente, e que os 3 recipientes têm, juntos, capacidade total de 111 mL.

Desse modo, conclui-se que a capacidade do terceiro recipiente é igual a

- (A) 45 mL.
- (B) 40 mL.
- (C) 36 mL.
- (D) 33 mL.
- (E) 30 mL.

20. VUNESP - 2023

Quando Mariana parou para abastecer seu veículo, o indicador de combustível estava abaixo de $\frac{1}{4}$, mas ainda fora da “reserva”, que tem 6 L. Nesse dia, o litro do etanol estava custando R\$ 3,99 e Mariana pediu ao frentista que abastecesse seu veículo com R\$ 100,00 desse combustível. Considerando que o tanque do veículo de

Mariana tem capacidade para 60 L, após o abastecimento, o indicador de combustível do carro dela deverá estar

(A) abaixo de $\frac{1}{4}$.

(B) entre $\frac{1}{4}$ e $\frac{1}{2}$.

(C) entre $\frac{1}{2}$ e $\frac{3}{4}$.

(D) acima de $\frac{3}{4}$, porém abaixo da indicação de cheio.

(E) indicando que o tanque está cheio.

21. VUNESP - 2023

De acordo com informações apresentadas pelo Instituto Brasileiro de Geografia e Estatística (IBGE), o município de Guararapes tinha, em 2022, um território com área de 955,637 km² e densidade demográfica de 32,48 habitantes por quilômetro quadrado. Sabendo-se que densidade demográfica é a razão entre o número de habitantes e a área do território, é correto afirmar que o número de habitantes, em 2022, no município de Guararapes, considerado pelo IBGE, estava compreendido entre

- (A) 31 020 a 31 030.
- (B) 31 030 a 31 040.
- (C) 31 040 a 31 050.
- (D) 31 050 a 31 060.
- (E) 31 060 a 31 070.

22. VUNESP - 2023

Uma prova é composta somente por questões que valem 0,5 ponto cada e por questões que valem 1 ponto cada. Sabendo-se que a prova tem um total de 50 questões e que o número máximo de pontos que um candidato pode obter nessa prova é 35, então o número de questões da prova que valem 0,5 ponto cada é igual a

- (A) 20.
- (B) 25.
- (C) 30.

NOÇÕES DE INFORMÁTICA

1. VUNESP - 2024

Um usuário do MS-Windows 10, por meio do Explorador de Arquivos, ambos em configuração original, decidiu trabalhar em duas pastas locais de seu computador. A pasta Pasta1, contendo apenas os arquivos um.txt e dois.txt; e a pasta Pasta2, contendo apenas o arquivo tres.txt. O usuário acessa a Pasta1, seleciona os dois arquivos, pressiona Ctrl + C. Em seguida, acessa a Pasta2, seleciona o arquivo tres.txt, pressiona Ctrl + X e, por fim, Ctrl + V.

Considerando que o usuário tem permissão para executar todas as operações e que quaisquer mensagens do sistema foram confirmadas pelo usuário, ao final de todas as operações descritas, a Pasta2 possui

- (A) os arquivos um.txt, dois.txt e tres.txt.
- (B) os arquivos um.txt e dois.txt, apenas.
- (C) nenhum arquivo.
- (D) o arquivo tres.txt, apenas.
- (E) um arquivo chamado Cópia de tres.txt.

2. VUNESP - 2024

Um usuário entrou em uma pasta local de seu computador, por meio do Explorador de Arquivos do MS-Windows 10, ambos em configuração padrão, contendo apenas 5 arquivos, todos do tipo txt, e viu a seguinte listagem de arquivos, cuja visualização está usando um determinado tipo de ordenação de arquivo

2_arquivo 1Arquivo
_2Arquivo
_1arquivo
_arquivo

O usuário, então, escolheu ordenar esses 5 arquivos usando o critério de nome do arquivo. O arquivo que ficará na terceira posição da ordenação é

- (A) 1Arquivo
- (B) _1arquivo
- (C) _arquivo
- (D) 2_arquivo
- (E) _2Arquivo

3. VUNESP - 2024

Tem-se a seguinte estrutura de pastas, exibida no Explorador de Arquivos do Microsoft Windows 10, ambos em sua configuração original.

Nome	Data de modificação	Tipo	Tamanho
 Fevereiro	30/09/2023 11:46	Pasta de arquivos	
 Janeiro_2023	30/09/2023 11:41	Pasta de arquivos	
 Lista.txt	03/11/2023 09:42	Documento de Te...	6 KB
 Lista_2022.txt	03/11/2023 09:42	Documento de Te...	3 KB

Um usuário, ao clicar com o botão principal do mouse sobre o arquivo Lista.txt e arrastá-lo para a pasta Fevereiro, consegue executar a operação com sucesso. No entanto, ao clicar com o botão principal do mouse sobre o arquivo Lista_2022.txt e arrastá-lo para a pasta Janeiro_2023, obtém uma mensagem de erro e não pode, assim, concluir a operação de forma automática.

Assinale a alternativa que indica uma razão para que esta operação não possa ser feita, considerando que o usuário possui privilégios de administrador no computador em uso.

- (A) O arquivo contém números no nome, e isso não é permitido.
- (B) Já existe um arquivo na pasta Janeiro_2023 com o nome de Lista_2022.txt.
- (C) A pasta contém números no nome, e isso não é permitido.
- (D) O arquivo Lista_2022.txt e a pasta Janeiro_2023 não têm a mesma numeração, e por isso o Windows não consegue completar a operação.
- (E) A pasta Janeiro_2023 contém subpastas e assim o Windows não consegue saber para qual subpasta o arquivo Lista_2022.txt deve ser movido.

4. VUNESP - 2023

Em um computador com o Microsoft Windows 10, em sua configuração original, existe um arquivo Lista.txt, que contém 250 linhas de conteúdo, na pasta C:\TEMP e um atalho na Área de Trabalho para esse arquivo com o nome de Arquivo Principal. Ao clicar com o botão secundário do mouse sobre o atalho e selecionar a opção Abrir, o Windows

- (A) abrirá o Bloco de Notas em branco.
- (B) abrirá o Explorador de Arquivos na pasta C:\TEMP.
- (C) abrirá o Bloco de Notas com o arquivo C:\TEMP\Lista.txt.
- (D) exibirá um erro porque o nome do atalho é diferente do nome do arquivo ao qual ele se refere.
- (E) abrirá as propriedades do atalho.

5. VUNESP - 2023

Um usuário está utilizando o programa Explorador de Arquivos, que integra o MS-Windows 10, em sua configuração padrão, para visualizar os cinco arquivos de uma pasta de seu computador, cujos nomes aparecem listados na tela do programa na seguinte sequência:

Arq01.txt
Arq02.txt
Arq03.txt
Arq04.txt
Arq05.txt

Para selecionar apenas os arquivos Arq01.txt e Arq04.txt com o objetivo de movê-los para outra pasta, esse usuário, antes de dar um clique de mouse sobre o nome de cada arquivo desejado, deverá pressionar a tecla

- (A) ALT.
- (B) CTRL.
- (C) END.
- (D) SHIFT.
- (E) TAB.

6. VUNESP - 2023

Um usuário editando um documento simples de texto por meio do Bloco de Notas do MS-Windows 10, ambos em configuração padrão, desejava formatar o texto e abriu uma janela com opções de formatação.

Assinale a alternativa que apresenta apenas formatações possíveis de serem feitas por meio do Bloco de Notas conforme o enunciado.

- (A) Itálico, sublinhado e tachado.
- (B) Itálico, negrito e tamanho de Fonte.
- (C) Texto sublinhado, alinhamento centralizado e tipo de fonte Arial.
- (D) Tipo de Fonte Times New Roman, tamanho de Fonte e alinhamento justificado.
- (E) Alinhamento à direita, sublinhado e tachado.

7. VUNESP - 2023

Por meio do Explorador de Arquivos do MS-Windows 10, ambos em configuração padrão, um usuário entrou em uma pasta local de seu computador, chamada pasta_A, selecionou dois arquivos (1.txt e 2.doc) e pressionou Ctrl+C. Em seguida, entrou em outra pasta local, chamada pasta_B, selecionou 3 arquivos (3.txt, 4.txt e 5.txt) e pressionou Ctrl+X. Por fim, acessou outra pasta local, chamada pasta_C, inicialmente vazia, e pressionou Ctrl+V. Sabendo que o usuário executou todas as ações com sucesso, ao final das ações, o número de arquivos na pasta_C é

- (A) 1.
- (B) 2.
- (C) 3.
- (D) 5.

8. VUNESP - 2023

Para se utilizar várias Áreas de Trabalho em um computador com o sistema operacional Windows 10, em sua configuração padrão, alguns passos devem ser seguidos. Para se criar uma nova Área de Trabalho, esses passos são:

- (A) 1 – No menu inferior do Windows 10, selecionar com o teclado ou com o mouse “Visão de Tarefas”. 2 – A aba da Área de Trabalho atual será aberta, e no canto superior esquerdo, clicar em “Nova área de trabalho”.
- (B) 1 – No menu inferior do Windows 10, selecionar com o teclado ou com o mouse “Visão de Tarefas”. 2 – Uma janela de nome Área de Trabalho será aberta com as opções: “Criar”, “Deletar” e “Suspender”, devendo ser selecionada a opção “Criar”.
- (C) 1 – No menu inferior do Windows 10, selecionar com o teclado ou com o mouse Área de Trabalho. 2 – Uma janela será aberta com diversas opções, devendo ser selecionada a opção “Criar nova área de trabalho”.
- (D) 1 – No Painel de Controle do Windows 10, selecionar com o teclado ou com o mouse “Área de Trabalho”. 2 – Uma janela será aberta com as opções, devendo-se selecionar “Nova área de trabalho”.
- (E) 1 – No menu Iniciar do Windows 10, selecionar com o teclado ou com o mouse “Área de Trabalho”. 2 – Uma janela de nome Área de Trabalho será aberta com as opções: “Criar” e “Deletar”, devendo ser selecionada a opção “Criar”.

9. VUNESP - 2023

Um usuário de um computador com o sistema operacional Windows 10, em sua configuração padrão, selecionou: botão Iniciar > Configurações > Sistema > Área de Transferência. Algumas opções são exibidas e podem ser ativadas ou desativadas, dentre elas:

- (A) o salvamento diário, em um arquivo enviado por e-mail ao usuário, de todo o conteúdo da Área de Transferência.
- (B) a edição de mensagens (e-mails) a serem enviadas, e que ficam na Área de Transferência até que a conexão com a Internet seja estabelecida.
- (C) o emprego de senha para se utilizar a Área de Transferência.
- (D) a criptografia do conteúdo da Área de Transferência.
- (E) que o histórico da Área de Transferência seja salvo para que itens nela presentes possam ser utilizados em outro momento.

10. VUNESP - 2023

Um técnico de TI, ao realizar a manutenção em um microcomputador tipo IBM-PC, com o sistema operacional Windows 10 instalado e um HD de 1 TB, executou o aplicativo de Desfragmentação de Disco do Windows, que pode ter como benefício a melhora

- (A) na capacidade do disco, por compactar os arquivos grandes em arquivos menores.
- (B) na segurança do sistema, por criptografar os dados do disco.
- (C) na segurança do sistema, por ocultar o acesso aos dados do disco por usuários não autorizados.
- (D) no desempenho do sistema, por consolidar as partes de cada arquivo em um local da unidade de disco.
- (E) no desempenho do sistema, por espalhar as partes de cada arquivo em múltiplos locais da unidade de disco.

11. VUNESP - 2023

A imagem a seguir foi retirada de um computador com MS-Windows 10 e mostra uma parte da Barra de Tarefas.



O ícone marcado com um “X” na imagem tem a funcionalidade padrão de

- (A) conectar na rede Wifi fornecida pelo avião.
- (B) conectar na rede Bluetooth fornecida pelo avião.
- (C) desativar conexões sem fio do computador, como Wifi e Bluetooth.
- (D) gerenciar app de passagem aérea.
- (E) liberar usuários específicos para acesso remoto.

12. VUNESP - 2023

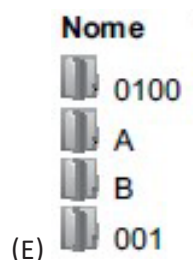
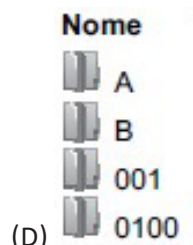
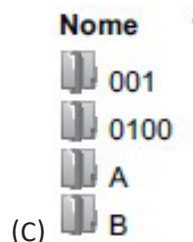
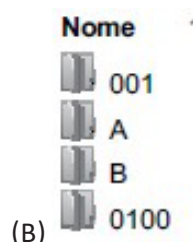
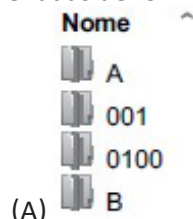
Um usuário precisa manipular alguns arquivos e pastas em seu computador local e tem todas as permissões necessárias para todas as operações que fará por meio do Explorador de Arquivos do MS- Windows 10, ambos em configuração padrão. A pasta A contém os arquivos 1.txt e 2.txt. A pasta B contém os arquivos 3.txt e 4.txt. O usuário acessa a pasta A, seleciona o arquivo 1.txt e aciona o atalho Ctrl + X. Então, acessa a pasta B, seleciona o arquivo 4.txt e aciona o atalho Ctrl + C. Por fim, acessa a pasta C, vazia, e aciona o atalho Ctrl + V.

Ao final das operações descritas no enunciado, o número de arquivos na pasta C é:

- (A) 0
- (B) 1
- (C) 2
- (D) 3
- (E) 4

13. VUNESP - 2023

Tem-se uma pasta no Microsoft Windows 10, em sua configuração padrão, apenas com 4 subpastas. Assinale a alternativa que exibe, de forma **correta**, as 4 subpastas, ordenadas de forma ascendente, pelo nome.



14. VUNESP - 2023

Considere 2 pastas no Microsoft Windows 10, em sua configuração padrão, chamadas ARQUIVOS e PROJETOS. A pasta ARQUIVOS contém 2 arquivos texto, sendo Arquivo1.txt e Arquivo2.txt. A pasta PROJETOS está vazia.



Após selecionar a pasta ARQUIVOS com o botão principal do mouse, arrastá-la, sem soltar o botão, para a pasta PROJETOS e, finalmente, soltar o botão do mouse, a pasta PROJETOS conterá

- (A) os arquivos Arquivo1.txt e Arquivo2.txt, apenas.
- (B) os arquivos Arquivo1.txt e Arquivo2.txt, compactados em um único arquivo.
- (C) a pasta ARQUIVOS, mas sem os arquivos Arquivo1.txt e Arquivo2.txt.
- (D) a pasta ARQUIVOS e os arquivos Arquivo1.txt e Arquivo2.txt, todos no mesmo nível.
- (E) a pasta ARQUIVOS e, dentro dela, seus arquivos Arquivo1.txt e Arquivo2.txt.

15. VUNESP - 2023

Tem-se uma pasta com apenas 1 arquivo no Microsoft Windows 10, em sua configuração original. Para gerar uma cópia desse arquivo, o usuário deve selecioná-lo com o botão principal do mouse e pressionar as teclas _____ e depois as teclas _____.

Assinale a alternativa que preenche, **correta e respectivamente**, as lacunas do texto.

- (A) CTRL+X ... CTRL+C
- (B) CTRL+C ... CTRL+V
- (C) CTRL+C ... CTRL+A
- (D) CTRL+A ... CTRL+V
- (E) CTRL+V ... CTRL+X

16. VUNESP - 2023

Um agente comunitário de saúde, após um trabalho em campo, deseja transferir os dados coletados e salvos em um arquivo de um pendrive para o seu computador com MS-Windows 10, em sua configuração padrão. Então, plugou o pendrive no computador, selecionou o arquivo desejado, clicou com o botão principal do mouse, mantendo-o pressionado, e arrastou o arquivo para cima do nome de uma pasta vazia local de seu computador, soltando o botão do mouse. Considere que a operação foi finalizada com sucesso.

CONHECIMENTOS ESPECÍFICOS

1. VUNESP - 2023

Considere que Tício é agente público e o seu colega de trabalho, Mévio, após analisar expediente administrativo, identificou indícios de prática de ato de improbidade administrativa que importa em enriquecimento ilícito. Ao se deparar com a situação, Mévio pretende reportar o caso ao seu superior hierárquico, para que a investigação seja aprofundada, para tanto está redigindo memorando descrevendo a denúncia.

Com base na Lei no 8.429/92, Mévio poderá indicar no documento, de forma **correta**, que

- (A) por se tratar de ato de improbidade, que importa em enriquecimento ilícito, haverá responsabilidade caso o ato tenha sido praticado a título de dolo ou culpa.
- (B) Tício somente poderá ser responsabilizado caso o ato tenha sido praticado a título doloso, considerando-se dolo a mera voluntariedade do agente de executá-lo.
- (C) o prazo de prescrição da ação de improbidade estará suspenso enquanto o processo de investigação estiver formalmente em curso.
- (D) Tício estará sujeito à Lei de Improbidade, ainda que o seu vínculo com a Administração seja transitório e sem remuneração.
- (E) na hipótese de a Administração identificar a prática de improbidade, não poderá ser realizado acordo judicial ou extrajudicial para solucionar o caso.

2. VUNESP - 2023

Com base na Lei nº 8.429/92, a respeito das ações de improbidade administrativa, o dolo

- (A) não é indispensável para a prática da improbidade administrativa, já que a Lei admite a punição de condutas culposas.
- (B) estará configurado com o mero exercício da função pública.
- (C) corresponde à vontade livre e consciente de alcançar os ilícitos tipificados em lei.
- (D) também estará configurado caso o agente público pratique ato identificado como erro grave.
- (E) confunde-se com a voluntariedade do agente em praticar a conduta.

3. VUNESP - 2023

Suponha que uma autoridade administrativa tenha tido conhecimento de fatos que constituem indícios da prática de improbidade. Segundo a Lei no 8.429/92, nessa situação, ela deverá

- (A) mandar instaurar o inquérito civil público para a devida apuração.
- (B) comunicar a autoridade policial competente para a abertura do inquérito.
- (C) oficiar ao Poder Judiciário para as medidas judiciais cabíveis.
- (D) representar ao Ministério Público para as providências necessárias.
- (E) comunicar ao seu superior hierárquico para aplicação das penalidades cabíveis.

4. VUNESP - 2023

Assinale a alternativa correta sobre a lei de improbidade administrativa, no 8429/1992.

- (A) A obrigação de reparar integralmente o dano ao erário em decorrência da prática de ato de improbidade administrativa é transmissível aos herdeiros ou sucessores, além do limite do valor da herança ou do patrimônio transferido.
- (B) Aquele que exerce transitoriamente e sem remuneração mandato em órgão público não está sujeito à aplicação da lei de improbidade administrativa.
- (C) Atos de improbidade praticados contra o patrimônio de entidade privada, que recebe subvenção, benefício ou incentivo fiscal ou creditício da União, estão sujeitos às penas da lei de improbidade administrativa.
- (D) O particular que não possui qualquer vínculo ou relacionamento com a administração pública pode ser responsabilizado por ato de improbidade administrativa se agir culposamente.
- (E) Todos os ilícitos previstos na lei de improbidade exigem dolo do agente e enriquecimento ilícito.

5. VUNESP - 2023

Uma das principais mudanças trazidas à Lei de Improbidade Administrativa no ano de 2021 foi a

- (A) exigência de conduta apenas dolosa para responsabilização por improbidade administrativa.
- (B) criação da seção dos atos de improbidade administrativa que importam enriquecimento ilícito.
- (C) proibição de receber dinheiro, bem móvel ou imóvel a título de presente de quem tenha interesse que possa ser atingido ou amparado por ação ou omissão decorrente das atribuições do agente público.
- (D) criminalização da representação por ato de improbidade administrativa contra agente público ou terceiro beneficiário, quando o autor da denúncia o sabe inocente.
- (E) possibilidade para qualquer pessoa representar à autoridade administrativa competente a prática de ato de improbidade administrativa.

6. VUNESP - 2023

Tendo em vista o disposto na Lei no 8.429/92, com relação às sanções por atos de improbidade administrativa, assinale a alternativa correta.

- (A) As sanções decorrentes de sentença condenatória na ação de improbidade administrativa poderão ser executadas antes do seu trânsito em julgado.
- (B) O agente público que se recusar a prestar a declaração de imposto de renda e proventos de qualquer natureza, no prazo legal, será sancionado com a pena de demissão.
- (C) Em razão do princípio da isonomia, na aplicação das sanções legais ao servidor público, não poderão ser levados em conta os antecedentes do agente.
- (D) As sanções de cassação de direitos políticos e de proibição de contratar ou de receber incentivos fiscais do poder público observarão o limite máximo de 8 (oito) anos.

7. VUNESP - 2023

Considere que Matias e Zenóbio foram aprovados em concurso público e convocados para posse e exercício nas respectivas funções. A portaria publicada no Diário Oficial indica, dentre os documentos exigidos, a necessidade de apresentar declaração de bens à repartição competente. Com base na situação hipotética e no disposto na Lei nº 8.429/92, é **correto** afirmar que

- (A) não é necessário fornecer declaração de imposto de renda, bastando para o início do exercício o fornecimento de declaração escrita que compreenda imóveis, móveis, semoventes, dinheiro, títulos, ações e qualquer outra espécie de bens e valores patrimoniais, localizados no País ou no exterior.
- (B) caso cumpram as formalidades legais iniciais para a posse e exercício, serão punidos com a pena de suspensão, sem prejuízo de outras sanções cabíveis, caso venham a, no futuro, recusar-se a prestar declaração dos bens, dentro do prazo determinado.
- (C) as declarações de imposto de renda deverão ser apresentadas no momento da posse e da extinção do vínculo com a Administração, ficando autorizada a autoridade competente a exigir a sua renovação anual.
- (D) ambos poderão entrar em exercício e apresentar, no prazo de até 30 dias, a declaração de imposto de renda que tenha sido fornecida à Secretaria Especial da Receita Federal do Brasil.
- (E) a posse e o exercício de ambos ficarão condicionados à apresentação de declaração de imposto de renda e proventos de qualquer natureza, que tenha sido apresentada à Secretaria Especial da Receita Federal do Brasil, a fim de ser arquivada no serviço de pessoal competente.

8. VUNESP - 2023

Um dos instrumentos legais existentes no Brasil para coibir o enriquecimento ilícito durante o exercício de cargo público consiste

- (A) no interrogatório civil, realizado no âmbito de sindicância preliminar aberta para a apuração de denúncia.
- (B) na obrigatoriedade de entrega, pelo agente público, de cópia da declaração anual de bens realizada à Receita Federal do Brasil, ao serviço de pessoal competente.
- (C) na tomada de contas especial, realizada pelos órgãos de controle interno, no âmbito dos Poderes Executivo, Legislativo e Judiciário.
- (D) na avaliação de integridade, entendida esta como o teste realizado com o objetivo de avaliar a tendência do agente público à prática de atos de corrupção, a partir de situações provocadas pelo avaliador sem o conhecimento do agente.
- (E) na pena de perdimento de bens, cuja origem lícita não possa ser cabalmente comprovada pelo agente público quando lhe for solicitado

9. VUNESP - 2023

José cometeu ato de improbidade administrativa que resultou em prejuízo aos cofres do Município. Ajuizada a competente ação por improbidade administrativa, a fim de garantir a integral recomposição do erário, a respectiva legislação permite que seja decretada, sem a oitiva prévia de José,

(A) a indisponibilidade de seus bens, que não poderá incidir sobre qualquer quantia depositada em caderneta de poupança.

(B) a perda de seus bens, incluindo bens móveis, imóveis e depósitos em caderneta de poupança e conta corrente.

(C) a indisponibilidade de seus bens, que poderá incidir sobre a quantia de até 40 (quarenta) salários mínimos depositados em caderneta de poupança.

(D) a perda de seus bens, incluindo bens móveis, imóveis, exceto sobre depósitos em caderneta de poupança e conta corrente.

(E) a indisponibilidade de seus bens, que poderá incidir sobre a quantia depositada em caderneta de poupança que supere 40 (quarenta) salários mínimos.

10. VUNESP - 2023

Conforme estabelece a Lei no 8.429/92, a ação por improbidade administrativa

(A) é repressiva, de caráter sancionatório e destinada à aplicação de sanções de caráter pessoal.

(B) constitui ação civil, tem caráter punitivo e indenizatório e será proposta pelo Ministério Público.

(C) será ajuizada para o controle de legalidade de políticas públicas por intermédio do Ministério Público.

(D) é destinada à proteção do patrimônio público e social, do meio ambiente e de outros interesses difusos, coletivos e individuais homogêneos.

(E) pode ser ajuizada pelos entes públicos, com o objetivo de buscar ressarcimento do erário e promover as suas políticas públicas.

11. VUNESP - 2023

A respeito das penas aplicadas com base na Lei nº 8.429/92, é **correto** afirmar que

(A) a aplicação das penas previstas na Lei de Improbidade depende, em regra, da efetiva ocorrência de dano ao patrimônio público.

(B) no caso de procedência da ação de improbidade, as custas e as demais despesas processuais serão pagas ao final.

(C) as sentenças civis e penais não produzirão efeitos em relação à ação de improbidade administrativa, dada a diferença de natureza jurídica das infrações envolvidas em cada uma delas.

(D) as sanções eventualmente aplicadas em outras esferas não poderão ser compensadas com as sanções aplicadas nos termos da Lei de Improbidade Administrativa.

(E) na apuração dos ilícitos de que trata a Lei, a critério do Ministério Público, poderá ser autorizada a juntada de manifestação escrita do investigado e documentos que auxiliem na elucidação dos fatos.

12. VUNESP - 2023

A respeito da prescrição da ação para aplicação das sanções previstas na Lei no 8.429/92, assinale a alternativa **correta**.

(A) Caso o agente público responsável pela prática do ato de improbidade seja portador de mandato eletivo, a ação de improbidade administrativa poderá ser proposta em até oito anos após o término do exercício do mandato.

(B) A ação para aplicação das sanções previstas na Lei de Improbidade prescreve em 5 (cinco) anos, a contar da ocorrência do fato.

(C) Interrompe-se a prescrição pela publicação de sentença condenatória ou absolutória.

(D) Interrompida a prescrição, o prazo recomeça a correr do dia da interrupção, pela metade do prazo previsto em lei.

(E) A suspensão da prescrição produz efeitos individualmente para cada um dos que concorreram para a prática do ato de improbidade administrativa, ainda que não sejam parte do mesmo processo judicial.

13. VUNESP - 2023

Considere que Pedro, servidor público do Município X, recebeu mil reais de Paulo, para fazer declaração falsa sobre a quantidade, peso e qualidade de mercadorias fornecidas ao Município X. Com base na situação hipotética e no disposto na Lei de Improbidade Administrativa, é **correto** afirmar que

(A) não se configura ato de improbidade administrativa, pois Pedro recebeu quantia inferior a um salário-mínimo.

(B) para configurar ato de improbidade administrativa, é preciso a comprovação do dolo, que é a vontade livre e consciente de alcançar o resultado ilícito tipificado na lei, não bastando a voluntariedade do agente.

(C) se Paulo morrer no curso da ação de improbidade administrativa, seus herdeiros estão sujeitos à obrigação de reparar o dano, independentemente do valor da herança recebida, tendo em vista a supremacia do interesse público.

(D) Pedro e Paulo estão sujeitos ao pagamento de multa civil de até 24 vezes o valor da remuneração percebida pelo agente e proibição de contratar com o poder público pelo prazo não inferior a 4 anos.

(E) uma vez condenados pela improbidade, a multa poderá ser aumentada até o triplo, se o juiz considerar que, em virtude da situação econômica dos réus, o valor calculado na forma da lei é ineficaz para reprovação e prevenção do ato de improbidade.

14. VUNESP - 2023

Nos termos da Lei no 8.429/92, assinale a alternativa correta.

(A) Em caráter ordinário e por motivos relevantes devidamente justificados, a sanção de multa pode extrapolar o ente público lesado pelo ato de improbidade.

(B) Para efeitos de contagem do prazo de proibição de contratar com o poder público, computar-se-á retroativamente o intervalo de tempo entre a decisão colegiada e o trânsito em julgado da sentença condenatória.

(C) Na responsabilização da pessoa jurídica, deverão ser considerados os efeitos econômicos e sociais das sanções, de modo a viabilizar a manutenção de suas atividades.

(D) No caso de atos de menor ofensa aos bens jurídicos tutelados pela referida Lei, a sanção limitar-se-á à aplicação de repreensão, sem prejuízo do ressarcimento do dano e da perda dos valores obtidos.

(E) Se ocorrer lesão ao patrimônio público, a reparação do dano a que se refere a Lei não deverá deduzir o ressarcimento ocorrido nas instâncias criminal, civil e administrativa que tiver por objeto os mesmos fatos.

15. VUNESP - 2023

Jaime é prefeito do Município X. Diante de indícios de prática de ato de improbidade administrativa, o Vereador Vivaldo apresentou representação contra Jaime, ao Ministério Público, para as providências necessárias. Considerando a situação hipotética, assinale a alternativa **correta**, à luz da lei de improbidade administrativa (Lei Federal nº 8429/92).

(A) Caso Jaime venha a falecer e haja comprovação de que tenha causado prejuízo ao erário, seus herdeiros responderão integralmente pelos danos.

(B) Na ação de improbidade administrativa poderá ser formulado pedido de indisponibilidade de bem de família de Jaime, se o imóvel for fruto de vantagem patrimonial indevida.

(C) A representação contra Jaime não deve ser conhecida porque Vivaldo não tem legitimidade para provocar o Ministério Público competente para as providências necessárias.

(D) O Ministério Público competente poderá determinar o afastamento de Jaime do exercício do cargo, sem prejuízo da remuneração, para evitar a iminente prática de novos ilícitos.

(E) A suspensão dos direitos políticos de Jaime poderá ser efetivada a partir da publicação da sentença condenatória.

16. VUNESP - 2023

Beltrano, responsável pelo estoque de suprimentos de escritório na empresa estatal “XPTO S/A”, precisou sair um dia mais cedo do trabalho para comparecer a um recital de sua filha de quatro anos na escola. Como talvez fosse necessário acessar o armário no qual o estoque era guardado, sem avisar ao seu superior, compartilhou a senha do cadeado com seu colega de equipe, Ciclano, a fim de que este suprisse qualquer demanda na sua ausência. Alguns dias mais tarde, descobriu-se que cerca de R\$15 mil em materiais de escritório foram retirados ilícitamente do armário por Ciclano, usando a senha compartilhada por Beltrano.

A respeito dessa situação hipotética, é **correto** afirmar, com base na Lei no 8.429/1992, que

(A) Beltrano responderá por ato de improbidade administrativa por ter concorrido dolosamente para a prática ilícita de Ciclano.

(B) Beltrano responderá por ato de improbidade administrativa apenas no caso de ser demonstrada a voluntariedade na sua conduta de compartilhar a senha.

(C) Ciclano não responderá pelo ato de improbidade em razão do valor do prejuízo ter se mostrado inferior ao mínimo legal.

(D) eventual absolvição de Beltrano e Ciclano em processo por improbidade administrativa não impede a sua demissão por justa causa após processo administrativo no âmbito da empresa.

(E) eventual exoneração de Beltrano e Ciclano em processo por improbidade administrativa impede a sua posterior responsabilização em sede criminal.