

# CORREIOS

500 QUESTÕES GABARITADAS - EMPRESA  
BRASILEIRA DE CORREIOS E TELÉGRAFOS

Agente de Correios  
Atendente Comercial

COM BASE NO EDITAL Nº 270,  
DE 09 DE OUTUBRO DE 2024



CÓD: SL-133JN-25  
7908433269977

## Questões Gabaritadas:

1. Língua Portuguesa .....	5
2. Matemática .....	55
3. Noções de Informática .....	71
4. Conhecimentos Gerais .....	89
5. Código de Conduta Ética e Integridade.....	121

# LÍNGUA PORTUGUESA

## 1. IBFC - 2022

### Texto 01 - Higiene ou bons modos?

Muito tem se falado sobre a importância da higiene pessoal. Desde que somos crianças, ouvimos nossos pais ordenarem: “Vá escovar os dentes”, “Chega de rua, entre em casa e vá direto para o banho!”, “Lave as mãos antes das refeições”, assim, aquelas ordens tornaram obrigações em hábitos.

Um dia desse, estava em uma praça de alimentação de um famoso Shopping Center aguardando uma amiga, que se atrasara para nosso almoço, assim sendo, sem muito o que fazer e olhando a esmo, \_\_\_\_\_. (01- comecei – comecei) a notar as pessoas ao meu redor.

Como ímãs, meus olhos foram ‘puxados’ para a mesa ao lado, onde havia um senhor sentado. Ele me chamou a atenção, pois havia terminado sua refeição e para sua higiene bucal começou a passar fio dental, detalhe: ele ainda sentado à mesa! Fazia aquilo com tanto orgulho. Acho que imaginava ser, naquele momento, um exemplo de boa conduta e higiene.

A \_\_\_\_\_ (02 – ojeriza – ojerisa) tomou conta de mim e o cavalheiro não se \_\_\_\_\_ (03- arrefeceu – arrefeceu) com o meu olhar de censura, continuou a higienizar seus dentes de forma vigorosa. Aquele ir e vir do fio dental acompanhava meus pensamentos... será que isso não vai terminar? Será que esse senhor não se percebe? Será que só eu estou vendo isso? E ao mesmo tempo me indaguei: Será que esse senhor teve um pai igual a mim que vivo dizendo ao meu filho “Não se esqueça de escovar os dentes”? A pergunta é retórica, realmente prefiro não saber a resposta!

*(Texto desenvolvido, a partir de fatos, especificamente para este concurso).*

No texto 01, podemos encontrar lacunas com palavras a serem completadas. Assinale a alternativa que preencha corretamente os espaços no texto.

- (A) 01 - comecei; 02 - ojeriza; 03 - arrefeceu.
- (B) 01 - comecei; 02 - ojeriza; 03 - arrefesceu.
- (C) 01 - comecei; 02 - ojerisa; 03 - arrefeceu.
- (D) 01 - comecei; 02 - ojerisa; 03 - arrefesceu.

## 2. IBFC - 2024

### Texto – Pescadores (Carlos Drummond de Andrade)

Domingo pede cachimbo, todo domingo aquele esquema: praia, bar, soneca, futebol, jantar em restaurante. Acaba em charuta\*. Os quatro jovens executivos sonhavam com um programa diferente.

– Se a gente desse uma de pescador?

– Falou.

Muniram-se do necessário, desde o caniço até o sanduíche incrementado, e saíram rumo à praia mais deserta, mais piscosa, mais sensacional.

Lá estavam felizes da vida, à espera de peixe. Mas os peixes, talvez por ser domingo, e todos os domingos serem iguais, também tinham variado de programa – e não se deixavam fisgar.

– Tem importância não. Daqui a pouco aparecem. De qualquer modo, estamos curtindo.

– É.

Peixe não vinha. Veio pela estrada foi a Kombi, lentamente. Parou, saltaram uns barbudos:

– Pescando, hem? Beleza de lugar. Fazem muito bem aproveitando a folga num programa legal. Saúde. Esporte. Alegria.

– Estamos só arejando a cuca\*, né? Semana inteira no escritório, lidando com problemas.

– Ótimo.

– Assim é que todos deviam fazer. Trocar a poluição pela natureza, vida ao ar livre. Somos da televisão, estamos filmando aspectos do domingo carioca. Podem colaborar?

– Que programa é esse?

– Aprenda a Viver no Rio. Programa novo, cheio de bossas\*. Vai ser lançado semana que vem. Gostaríamos que vocês fossem filmados como exemplo do que se pode curtir num dia de lazer, em benefício do corpo e da mente.

– Pois não. O grilo\* é que não pescamos nada ainda.

– Não seja por isso. Tem peixe na Kombi, que a gente comprou para uma caldeirada logo mais.

Desceram os aparelhos e os peixes, e tudo foi feito com técnica e verossimilhança, na manhã cristalina. Os quatro retiravam do mar, em ritual de pescadores experientes, os peixes já pescados. O pessoal da TV ficou radiante:

- Um barato\*. Vocês estavam ótimos.
- Quando é que passa o programa?
- Quinta-feira, horário nobre. Já está sendo anunciado.

Quinta-feira, os quatro e suas jovens mulheres e seus encantadores filhos reuniram-se no apartamento de um deles – o que tivera a ideia da pescaria.

– Vocês vão ver os maiores pescadores da paróquia\* em plena ação.

O programa, badaladíssimo, começou. Eram cenas do despertar da manhã carioca, trens superlotados da Linha Auxiliar, filas no elevador, escritórios em atividade, balconistas, enfermeiras, bancários, tudo no batente ou correndo para.

O apresentador fez uma pausa, mudou de tom:

“– Agora, o contraste. Em pleno dia de trabalho, com a cidade funcionando a mil por cento para produzir riqueza e desenvolvimento, os inocentes do Leblon dedicam-se à pescaria sem finalidade. Aí estão esses quatro folgados, esquecidos de que a Guanabara enfrenta problemas seríssimos e cada hora desperdiçada reduz o produto nacional bruto...”

– Canalhas! – Pai, você é um barato\*!

– E eu que não sabia que você, em vez de ir para o escritório, vai pescar com a patota\*, Roberto!

– Se eu pego aqueles safados mato eles.

– E o peixe, pai, você não trouxe o peixe para casa!

– Não admito gozação!

– Que é que vão dizer amanhã no escritório!

– Desliga! Desliga logo essa porcária! Para aliviar a tensão, serviu-se uísque aos adultos e refrigerante aos garotos.

(Carlos Drummond de Andrade. 70 Historinhas)

#### Vocabulário

*Acaba em charuta = Acaba da mesma forma. cuca = cabeça;*

*mente bossas = novidades grilo = problema*

*um barato = coisa legal, simpática, interessante patota = grupo de amigos*

*os maiores pescadores da paróquia = os maiores pescadores que se tem notícias.*

(Texto adaptado de “Setenta historinhas de Drummond de Andrade”. O Texto original em Carlos Drummond de Andrade “Setenta historinhas”, Companhia das Letras, São Paulo, 2016, p.14)

Assinale a alternativa em que todas as palavras estão acentuadas corretamente.

- (A) Triângulo, café, ângulo, gratuito.
- (B) Âmbito, recíproco, caráter, geléia.

- (C) Genérico, êxtase, côncavo, preâmbulo.
- (D) Idéia, paralelepípedo, assembléia, órfão.

### 3. IBFC - 2023

Assinale a alternativa em que todas as palavras estão acentuadas corretamente.

- (A) Campainha, egoísta, saúde, falência, sótão.
- (B) Campainha, egoista, saude, falência, sotão.
- (C) Campainha, egoísta, saude, falencia, sotaio.
- (D) Campainha, egoista, saúde, falencia, sótao.
- (E) Campainha, egoísta, saude, falência, sótão.

### 4. IBFC - 2023

Assinale a alternativa correta, em relação à ortografia e acentuação das palavras:

I. Os alunos leem regularmente vários periódicos.

II. São necessárias novas ideias para a pesquisa do célebre autor.

III. Os pais crêem que os filhos vêem os problemas de modo simplificado.

- (A) I e III estão corretas.
- (B) II e III estão corretas.
- (C) I e II estão corretas.
- (D) Somente II está correta.

### 5. IBFC - 2023

Assinale a alternativa em que todas as palavras estejam acentuadas incorretamente.

- (A) papéis, ônibus, imperialista, troféu.
- (B) Véu, fiéis, crêem, período.
- (C) Assembléia, lêem, feiúra, enjôo.
- (D) Contemporâneo, idéia, anéis, faróis.

### 6. IBFC - 2023

Assinale a alternativa que apresenta somente palavras acentuadas corretamente.

- (A) Extase, essencia, vinténs, sótão.
- (B) Extase, essência, vintens, sótão.
- (C) Êxtase, essencia, vinténs, sótão.
- (D) Êxtase, essência, vinténs, sótão.

**7. IBFC - 2022****Texto**

**Dia das Mães: pouca reivindicação e muito consumismo.**

**A data perdeu sua origem reivindicativa para se tornar um negócio com grande carga sentimental.**  
(David Bernal)

Um colar feito com macarrões coloridos, uma molhada enfeitada com pregadores de roupa ou um cinzeiro com migalhas de pão. Quando éramos pequenos fazer o presente do Dia das Mães era todo um acontecimento. O importante não era o valor material, mas o amor e o entusiasmo com que fazíamos na escola. Depois, quando crescemos, puxamos o cartão de crédito, enviamos flores, ligamos com um “amo você” ou – se a distância permite – um almoço com um aperto de mão.

Ao contrário do Dia dos Pais ou do Dia dos Namorados, datas um pouco controversas, todo mundo comemora o Dia das Mães. O que poucos sabem é o porquê de ele ser comemorado, já que sobre essa data existem algumas falsas crenças.

O primeiro erro que as pessoas cometem é pensar que o planeta inteiro comemora no mesmo dia. Países tão diversos quanto Espanha, Romênia, Lituânia, África do Sul e Hungria comemoram no primeiro domingo de maio. Mas outros, como Estados Unidos, China, Cuba, Nova Zelândia e Brasil, no segundo. Do outro lado estão a Argentina e a Bielorrússia, que só homenageiam as mães em outubro.

O segundo mito é a crença de que se trata de uma celebração religiosa. A Igreja comemora em 8 de dezembro, coincidindo com a festa da Imaculada Conceição. E na Espanha, por exemplo, foi assim até que em 1965 houve mudança.

Os primeiros sinais desta festa são encontrados na Antiguidade. No Egito todos os anos era celebrada a deusa Ísis, mãe de todos os faraós, e na Grécia clássica o mesmo era feito com Rea, mãe dos deuses Júpiter, Netuno e Plutão. Os romanos herdaram essa tradição e na primavera reverenciavam por três dias a deusa Cibele em um festival chamado Hilária.

Mas para encontrar sua verdadeira origem, devemos voltar ao século XVII na Inglaterra, onde um evento chamado Domingo das Mães que começou com a oferta de flores das crianças para suas mães na saída da Missa, acabou como um dia de folga no trabalho.

Em 1870, nos EUA, a poeta e ativista Julia Ward Howe escreveu a Proclamação do Dia das Mães. “Levantem-se, mulheres de hoje!”, exclamou. Embora a verdadeira mãe dessa festa, como a conhecemos hoje, foi Anna Reeves Jarvis, uma dona de casa que em 12 de maio de 1907 or-

ganizou um Dia das Mães para comemorar a morte da sua, ocorrida dois anos antes, e reconhecer seu inestimável trabalho. Mas não só isso: começou uma campanha para que o resto do país também comemorasse. E funcionou, pois, em 1914, o presidente Woodrow Wilson definiu a data no segundo domingo de maio. A ideia se espalhou para o resto do mundo. Até hoje.

Com esta origem tão difusa e dispersa não é de estranhar que seu caráter reivindicativo tenha se perdido ao longo do caminho para se tornar uma (outra) desculpa para que os comércios vendam.

[Texto adaptado de BERNAL, David. *Jornal El País (Brasil)*. Disponível em [https://brasil.elpais.com/brasil/2016/05/01/estilo/1462053874\\_986350.htm](https://brasil.elpais.com/brasil/2016/05/01/estilo/1462053874_986350.htm)]

Observe as palavras retiradas do texto e assinale a alternativa em que a regra de acentuação e a divisão silábica estejam corretas em relação às regras vigentes de ortografia e acentuação oficiais.

Palavras: ‘faraó’, ‘distância’, ‘Júpiter’.

I. ‘faraó’ é uma oxítone dissílaba.

II. ‘distância’ é uma proparoxítone polissílaba.

III. ‘Júpiter’ é uma proparoxítone trissílaba.

Estão corretas as afirmativas:

(A) I apenas.

(B) II apenas.

(C) I e II apenas.

(D) III apenas.

**8. IBFC - 2022****Pão de queijo mineiro**

(Texto adaptado de <https://comidinhasdochef.com/pao-de-queijo-mineiro/>)

O pão de queijo é um alimento típico na casa de muita gente, congelado ou feito na hora, possui um sabor irresistível que agrada aos (os – aos) mais diversos paladares. No entanto, não há. (a – à – há) nada melhor do que saborear um pão de queijo mineiro, digno do estado que criou a receita! Com preparos que levam queijo minas, canastra ou, até mesmo, parmesão, é possível encontrar a receita ideal para o seu paladar. Viaje a Minas Gerais sem sair da cozinha com esta deliciosa receita de pão de queijo mineiro!

Passo 1 - Em uma panela, coloque o óleo, o leite e a água e leve ao fogo médio;

Passo 2 - Quando começar a levantar fervura e subir, desligue o fogo;

Passo 3 - Em uma tigela grande, coloque o polvilho, o sal e misture bem, em seguida adicione à mistura que estava fervendo; Passo 4 - Vá adicionando aos poucos e vá misturando bem com uma colher, para escaldar o polvilho;

Passo 5 - Vá misturando a massa com as mãos até formar uma farofa;

Passo 6 - Em seguida adicione os ovos, um a um e vá mexendo a massa, amassando e misturando;

Passo 7 - Amasse a massa até que ela fique bem lisa e homogênea...

Passo 18 - Leve para assar em forno preaquecido, 200°C, por cerca de 35 minutos ou até dourar”.

Assinale a alternativa que contenha uma sequência de palavras formadas pela antepenúltima sílaba tônica acentuada e pronunciada com maior força e intensidade, ou seja, que contenha uma sequência de palavras proparoxítonas:

- (A) sofá; filé; purê.
- (B) óleo; médio; distância.
- (C) você; açúcar; árvore.
- (D) âncora; ângulo; básico.

## 9. IBFC - 2022

### Texto 01 - Higiene ou bons modos?

Muito tem se falado sobre a importância da higiene pessoal. Desde que somos crianças, ouvimos nossos pais ordenarem: “Vá escovar os dentes”, “Chega de rua, entre em casa e vá direto para o banho!”, “Lave as mãos antes das refeições”, assim, aquelas ordens tornaram obrigações em hábitos.

Um dia desse, estava em uma praça de alimentação de um famoso Shopping Center aguardando uma amiga, que se atrasara para nosso almoço, assim sendo, sem muito o que fazer e olhando a esmo, comecei a notar as pessoas ao meu redor.

Como ímãs, meus olhos foram ‘puxados’ para a mesa ao lado, onde havia um senhor sentado. Ele me chamou a atenção, pois havia terminado sua refeição e para sua higiene bucal começou a passar fio dental, detalhe: ele ainda sentado à mesa! Fazia aquilo com tanto orgulho. Acho que imaginava ser, naquele momento, um exemplo de boa conduta e higiene.

A ojeriza tomou conta de mim e o cavalheiro não se arrefeceu com o meu olhar de censura, continuou a higienizar seus dentes de forma vigorosa. Aquele ir e vir do fio dental acompanhava meus pensamentos... será que isso não vai terminar? Será que esse senhor não se percebe? Será que só eu estou vendo isso? E ao mesmo tempo me indaguei: Será que esse senhor teve um pai igual a mim

que vivo dizendo ao meu filho “Não se esqueça de escovar os dentes”? A pergunta é retórica, realmente prefiro não saber a resposta!

(Texto desenvolvido, a partir de fatos, especificamente para este concurso).

Em relação à acentuação oficial, há uma sequência de palavras retiradas do texto e que foram acentuadas como “oxítona – paroxítona – proparoxítona”. Assinale a alternativa em que haja essa sequência.

- (A) retórica – importância – será.
- (B) será – importância – retórica.
- (C) importância – será – retórica.
- (D) retórica – será – importância.

## 10. IBFC - 2022

### Texto I

#### A Mulher do Vizinho

Contaram-me que na rua onde mora (ou morava) um conhecido e antipático general de nosso Exército morava (ou mora), também um sueco cujos filhos passavam o dia jogando futebol com bola de meia. Ora, às vezes acontecia cair a bola no carro do general e um dia o general acabou perdendo a paciência, pediu ao delegado do bairro para dar um jeito nos filhos do sueco.

O delegado resolveu passar uma chamada no homem, e intimou-o a comparecer à delegacia.

O sueco era tímido, meio descuidado no vestir e pelo aspecto não parecia ser um importante industrial, dono de grande fábrica de papel (ou coisa parecida), que realmente ele era. Obedecendo a ordem recebida, compareceu em companhia da mulher à delegacia e ouviu calado tudo o que o delegado tinha a dizer-lhe. O delegado tinha a dizer-lhe o seguinte:

– O senhor pensa que só porque o deixaram morar neste país pode logo ir fazendo o que quer? Nunca ouviu falar numa coisa chamada AUTORIDADES CONSTITUÍDAS? Não sabe que tem de conhecer as leis do país? Não sabe que existe uma coisa chamada EXÉRCITO BRASILEIRO que o senhor tem de respeitar? Que negócio é este? Então é ir chegando assim sem mais nem menos e fazendo o que bem entende, como se isso aqui fosse casa da sogra? Eu ensino o senhor a cumprir a lei, ali no duro: *dura lex!* Seus filhos são uns moleques e outra vez que eu souber que andaram incomodando o general, vai tudo em cana. Morou? Sei como tratar gringos feito o senhor.

Tudo isso com voz pausada, reclinado para trás, sob o olhar de aprovação do escrivão a um canto. O sueco pediu (com delicadeza) licença para se retirar. Foi então que a mulher do sueco interveio:

# MATEMÁTICA

## 1. IBFC - 2013

O relógio de uma estação de trem adianta 24 segundos a cada 36 horas. Ao se passarem 72 dias o relógio ficará adiantado em:

- (A) 872 segundos
- (B) 19, 12 minutos
- (C) 19 minutos e 12 segundos
- (D) 16, 12 minutos

## 2. IBFC - 2021

Considerando  $D$  como sendo o total de divisores inteiros não negativos do número 18 e  $M$  o total de múltiplos inteiros não negativos até 100 do número 12, então o valor da expressão  $2M + 3D$  é igual a:

- (A) 36
- (B) 33
- (C) 34
- (D) 31

## 3. IBFC - 2019

Três amigos de infância costumam voltar à cidade natal em intervalos regulares distintos. Alberto regressa a cada 3 meses, Joana a cada 5 meses. Roberta pode estar decidindo qual deve ser o período de volta que pode adotar. Dentre as alternativas, assinale a que levaria ao menor período de encontro regular entre eles.

- (A) 7 meses
- (B) 9 meses
- (C) 10 meses
- (D) 15 meses

## 4. IBFC - 2018

Um número é composto por 3 algarismos sendo que o algarismo da centena é o 7 e o da unidade é o 4. A soma dos possíveis algarismos da dezena desse número de modo que ele seja divisível por 3 é:

- (A) 15
- (B) 18
- (C) 12
- (D) 9

## 5. IBFC - 2018

Um comerciante vende balas em pacotinhos, sempre com a mesma quantidade. Ao fazer isso, percebeu que dentre as balas que possuía poderia colocar 8, 12 ou 20 balas em cada pacote. Nessas condições, assinale a alternativa que apresenta o número mínimo de balas que o comerciante dispunha:

- (A) 120
- (B) 240
- (C) 360
- (D) 60

## 6. IBFC - 2017

Considerando  $A$  o MDC (maior divisor comum) entre os números 24 e 60 e  $B$  o MMC (menor múltiplo comum) entre os números 12 e 20, então o valor de  $2A + 3B$  é igual a:

- (A) 72
- (B) 156
- (C) 144
- (D) 204

## 7. IBFC - 2019

Dentre as alternativas, a única **incorreta** é:

- (A) o elemento neutro da multiplicação de números inteiros é o número 1
- (B) o elemento simétrico da adição de números inteiros é o número 0
- (C) o conjunto  $\{-4, -2, -1, +1, +2, +4\}$  representa o conjunto de todos os divisores inteiros do número 4
- (D) o conjunto de todos os múltiplos inteiros do número 4 é infinito

## 8. IBFC - 2017

Sabe-se que  $x$  e  $y$  são números inteiros. Nessas condições e considerando as operações elementares, a única alternativa **incorreta** é:

- (A) O produto entre  $x$  e  $y$  pode resultar num número negativo
- (B) Se  $x$  é maior que  $y$ , então a divisão entre eles, nessa ordem, pode resultar num número negativo

- (C) O resultado sempre é negativo quando se multiplicam  $x$  e  $y$ , sendo  $x$  maior que zero e  $y$  negativo  
 (D) Sendo  $x$  menor que  $y$ , a subtração entre eles, nessa ordem, resulta num número menor que zero  
 (E) Se  $x$  e  $y$  forem negativos e  $y$  maior que  $x$ , então a soma entre eles resulta num número positivo

**9. IBFC - 2024**

Um tanque possui  $\frac{3}{4}$  de sua capacidade preenchida com água. Se  $\frac{2}{3}$  da água é retirada do tanque, a fração que representa a quantidade de água restante em relação à capacidade total do tanque é:

- (A)  $\frac{1}{3}$   
 (B)  $\frac{1}{2}$   
 (C)  $\frac{1}{4}$   
 (D)  $\frac{1}{12}$   
 (E)  $\frac{1}{5}$

**10. IBFC - 2024**

Maria comprou uma garrafa de 500 ml de xarope para gripe. Ela utilizou  $\frac{3}{10}$  do xarope para preparar uma mistura.

A quantidade, em Litros, de xarope que Maria usou para fazer a mistura, é de:

- (A) 1,50 L  
 (B) 0,15 L  
 (C) 150 L  
 (D) 0,015 L  
 (E) 15 L

**11. IBFC - 2024**

Em uma cidade, um bairro específico possui 1.200 habitantes. Sabe-se que 750 pessoas são proprietários de bicicletas.

A razão entre as pessoas que não são proprietárias de bicicletas em relação ao total de pessoas no bairro é de:

- (A)  $\frac{5}{8}$   
 (B)  $\frac{3}{8}$   
 (C)  $\frac{5}{4}$   
 (D)  $\frac{3}{4}$   
 (E)  $\frac{1}{3}$

**12. IBFC - 2023**

Dado as quatro razões abaixo, assinale a alternativa que corresponda, respectivamente, essas mesmas razões em ordem crescente:

(A)  $\frac{3}{4}$  (B)  $\frac{1}{2}$  (C)  $\frac{2}{3}$  (D)  $\frac{1}{4}$

- (A) D - C - B - A  
 (B) A - B - C - D  
 (C) C - A - D - B

- (D) B - D - A - C  
 (E) D - B - C - A

**13. IBFC - 2023**

Se uma pizza foi dividida em oito partes iguais e duas dessas partes forem comidas, assinale a alternativa que apresenta quanto sobra da pizza.

- (A)  $\frac{1}{3}$   
 (B)  $\frac{2}{8}$   
 (C)  $\frac{3}{4}$   
 (D)  $\frac{7}{8}$   
 (E)  $\frac{2}{4}$

**14. IBFC - 2022**

Ao transmitir dados num computador, um supervisor verificou que era necessário realizar o produto entre os números  $x = 0,333\dots$  e  $y = 0,777\dots$ , pois o dispositivo só admitia números na forma fracionária. Nessas condições, a fração correta a ser transmitida é:

- (A)  $\frac{7}{30}$   
 (B)  $\frac{7}{18}$   
 (C)  $\frac{5}{17}$   
 (D)  $\frac{5}{13}$   
 (E)  $\frac{7}{27}$

**15. IBFC - 2022**

Gustavo gasta  $\frac{1}{8}$  do salário que recebe com alimentação e  $\frac{3}{4}$  com moradia. Após pagar essas dívidas ainda lhe sobra o equivalente a R\$ 260,00. O salário de Gustavo, em reais, é igual a:

- (A) R\$ 1.500,00  
 (B) R\$ 1.280,00  
 (C) R\$ 2.971,14  
 (D) R\$ 2.080,00

**16. IBFC - 2021**

Ana leu  $\frac{2}{5}$  das páginas de um livro e ainda restam 240 páginas para serem lidas. Nessas condições, o total de páginas do livro que Ana está lendo é:

- (A) 96  
 (B) 144  
 (C) 600  
 (D) 400  
 (E) 480



**17. IBFC - 2018**

Um agente arquivou  $\frac{1}{4}$  dos documentos financeiros num dia e no outro dia arquivou  $\frac{2}{3}$  dos documentos financeiros. Se ainda faltam arquivar 9 documentos financeiros, então o total dos documentos que já foram arquivados é:

- (A) 108
- (B) 99
- (C) 120
- (D) 111

**18. IBFC - 2018**

Ana tem  $\frac{2}{9}$  do valor necessário para comprar um produto. Se com mais R\$ 252,00 ela compra o produto, então o valor que Ana possui é igual a:

- (A) R\$ 72,00
- (B) R\$ 324,00
- (C) R\$ 252,00
- (D) R\$ 56,00

**19. IBFC - 2017**

Em uma festa, compareceram 135 pessoas, sendo que 81 são do sexo feminino e o restante do sexo masculino. Desse modo, a razão entre o número de pessoas do sexo feminino e o número de pessoas do sexo masculino é:

- (A)  $\frac{8}{27}$
- (B)  $\frac{3}{2}$
- (C)  $\frac{5}{6}$
- (D)  $\frac{91}{54}$
- (E)  $\frac{81}{135}$

**20. IBFC - 2017**

Assinale a alternativa correta.

Antônio gastou 50% de dois quintos do valor que possuía e ainda sobraram R\$ 160,00 a ele. Nessas circunstâncias o valor gasto por Antônio foi:

- (A) R\$ 200,00
- (B) R\$ 160,00
- (C) R\$ 60,00
- (D) R\$ 80,00
- (E) R\$ 40,00

**21. IBFC - 2016**

Um número que não pode ser escrito na forma  $\frac{a}{b}$ , com  $a \in \mathbb{Z}$  e  $b \in \mathbb{Z}^*$  pertence ao conjunto dos irracionais. Dessa forma, dentre as alternativas, o número que não é irracional é:

- (A) 3, 212223...
- (B)  $\sqrt{7}$
- (C) 1, 4344...
- (D)  $\frac{\pi}{2}$

**22. IBFC - 2016**

Dentre as alternativas, a única que apresenta um número que não pertence ao conjunto dos números racionais é:

- (A) - 23
- (B) 3,7
- (C) 2,4444...
- (D) 3,1112...

**23. IBFC - 2016**

Paulo tinha R\$ 72,00 e gastou  $\frac{2}{5}$  com lazer e a metade do que tinha com alimentação. Desse modo, o valor que sobrou para Paulo foi:

- (A) R\$ 17,20
- (B) R\$ 21,60
- (C) R\$ 7,20
- (D) R\$ 50,40

**24. IBFC - 2016**

A fração reduzida que representa o total de mulheres pelo total de homens numa sala com 84 pessoas é representada por  $\frac{3}{4}$ . Nessas condições, o total de homens na sala é:

- (A) 63
- (B) 36
- (C) 48
- (D) 21
- (E) 42

**25. IFBC - 2012**

Paulo leu 10 páginas de um livro em 3 dias, lendo 2 horas por dia. O total de páginas do mesmo livro que Paulo leria se lesse 3 horas por dia durante 5 dias seria de:

- (A) 25  
(B) 20  
(C) 15  
(D) 30

**26. IBFC - 2015**

Mauro acertou  $\frac{7}{12}$  de 40% das questões de um concurso. Nessas condições, a fração que corresponde ao total de questões que Mauro errou no concurso é:

- (A)  $\frac{23}{60}$   
(B)  $\frac{14}{60}$   
(C)  $\frac{11}{30}$   
(D)  $\frac{23}{30}$   
(E)  $\frac{7}{30}$

**27. IBFC - 2015**

Paula pagou dois terços de três quartos do valor que possuía. Desse modo, a fração que representa o que sobrou para Paula, do valor que possuía, é:

- (A)  $\frac{1}{3}$   
(B)  $\frac{1}{4}$   
(C)  $\frac{5}{12}$   
(D)  $\frac{1}{2}$

**28. IBFC - 2014**

Três netos irão dividir uma herança. O primeiro vai receber  $\frac{2}{3}$  dessa herança, o segundo  $\frac{2}{7}$  e o restante vai ficar para o terceiro neto. A fração que representa a herança que ficará para o terceiro neto é:

- (A)  $\frac{6}{10}$   
(B)  $\frac{20}{21}$   
(C)  $\frac{1}{21}$   
(D)  $\frac{4}{21}$

**29. IBFC - 2019**

A rede social Instagram anunciou em junho de 2018 a tabela abaixo de usuários ativos, sendo a rede social que mais cresce atualmente na rede mundial de computadores.

ANO	MÊS	NÚMERO DE USUÁRIOS (EM MILHOES)	VARIAÇÃO POR MÊS (MILHÕES DE NOVOS USUÁRIOS/MÊS)
2016	12	600	-
2017	4	700	25
2017	9	800	20
2018	6	1000	22

O crescimento mensal médio verificado a partir desses dados é 22,4 milhões de novos usuários ativos por mês. Considerando que houvesse a manutenção deste crescimento médio, assinale a alternativa que melhor aproxima o número esperado para o total de usuários ativos nesta rede social em 7/2019 (julho de 2019).

- (A) 290 milhões  
(B) 1 bilhão e 300 milhões  
(C) 1 bilhão e 100 milhões  
(D) meio bilhão

**30. IBFC - 2017**

Uma determinada empresa vendeu 7500 produtos no primeiro semestre de 2016, sendo que a tabela a seguir indica a representação decimal percentual em relação ao total, mês a mês

Mês	Representação decimal
Janeiro	0,10
Fevereiro	0,13
Março	0,15
Abril	0,17
Maior	0,20
Junho	0,25

Com base nesses dados, o número total de produtos vendidos nos meses de maio e junho foi de:

- (A) 1125  
(B) 1275  
(C) 2350  
(D) 3190  
(E) 3375

# NOÇÕES DE INFORMÁTICA

## 1. IBFC - 2023

Assinale a alternativa correta quanto ao objetivo do suporte em softwares básicos.

- (A) Corrigir problemas de hardware
- (B) Gerenciar backups de dados
- (C) Resolver falhas no sistema operacional
- (D) Oferecer suporte técnico aos usuários

## 2. IBFC - 2022

Um arquivo baixado da Internet possui o tamanho de 1MB. Em matéria de quantidade de posições em computador, esse arquivo tem precisamente \_\_\_\_\_. Assinale a alternativa que preencha corretamente a lacuna.

- (A) 1.000 bytes
- (B) 1.024 bytes
- (C) 126.976 bytes
- (D) 1.048.576 bytes

## 3. IBFC - 2022

Em um computador existem vários tipos de memória. Atualmente, uma típica memória RAM possui a capacidade de:

- (A) 32 Bits
- (B) 8 GB
- (C) 16 MHz
- (D) 4 TB

## 4. IBFC - 2023

\_\_\_\_\_ são os componentes de um computador responsáveis por conectar os dispositivos internos.

Assinale a alternativa que preencha corretamente a lacuna.

- (A) Periféricos
- (B) Dispositivos de entrada
- (C) Dispositivos de saída
- (D) Barramentos

## 5. IBFC - 2022

O Hard Disk (HD) possui vários padrões de interface de conexão. Os mais utilizados são:

- (1) IDE
- (2) OCR
- (3) SATA

Da relação apresentada:

- (A) existem somente o 1 e 2
- (B) existem somente o 1 e 3
- (C) existem somente o 2 e 3
- (D) existem todos

## 6. IBFC - 2023

Assinale a alternativa correta quanto a função dos periféricos em um computador.

- (A) Executar operações matemáticas
- (B) Armazenar informações temporariamente
- (C) Controlar a entrada e saída de dados
- (D) Gerenciar o sistema operacional

## 7. IBFC - 2022

O conector USB-C foi desenvolvido especialmente para trabalhar com conexões USB 3.1, embora possa funcionar também com as especificações anteriores e com outras tecnologias. Referente a esse tipo de USB, analise as afirmativas abaixo e dê valores Verdadeiro (V) ou Falso (F).

( ) Permitem a transmissão bidirecional de dados ao mesmo tempo.

( ) Esse tipo de USB pode chegar a fornecer até 100 watts de potência.

( ) Essa USB tem a mesma velocidade de dados máxima das versões anteriores.

Assinale a alternativa que apresenta a sequência correta de cima para baixo.

- (A) V - F - F
- (B) V - V - F
- (C) F - V - V
- (D) F - F - V

**8. IBFC - 2024**

Windows é um sistema operacional para computadores desenvolvido pela Microsoft. Existem várias funções principais do sistema operacional Windows. Assinale a alternativa **incorreta**.

- (A) Ser responsável por organizar e gerenciar todos os arquivos do computador
- (B) Oferecer uma interface gráfica amigável, com ícones, janelas, menus e barras de tarefas
- (C) O único propósito do Windows é gerenciar os softwares que operam no computador
- (D) Incluir recursos de segurança para proteger o computador contra malwares e vírus
- (E) O Windows é responsável por gerenciar os componentes de hardware do computador

**9. IBFC - 2024**

Dentro dos vários aplicativos do Windows 10 (em português) existe um que é utilizado para enviar e receber e-mails. Assinale a alternativa correta que apresenta o nome desse aplicativo.

- (A) OneDrive
- (B) Email
- (C) Notepad
- (D) Cortana

**10. IBFC - 2024**

Quanto aos principais aplicativos e acessórios do Windows 10 (em português), analise as afirmativas abaixo.

- (1) Paint é um editor de imagens básico para criar e editar imagens simples.
  - (2) Cortana é um Assistente Virtual para realizar tarefas por comandos de voz.
- Assinale a alternativa correta.
- (A) As duas afirmativas são verdadeiras
  - (B) A afirmativa (1) é verdadeira, e a (2) é falsa
  - (C) A afirmativa (2) é verdadeira, e a (1) é falsa
  - (D) As duas afirmativas são falsas

**11. IBFC - 2024**

É utilizado um símbolo especial para separar os nomes dos diretórios em um caminho no Windows. Assinale a alternativa correta.

- (A) / (barra normal)
- (B) : (dois pontos)
- (C) \ (barra invertida)
- (D) . (ponto)

**12. IBFC - 2023**

No contexto do ambiente Windows, podemos afirmar que “desktop” é:

- (A) um programa de edição de texto
- (B) uma área de trabalho onde são exibidos ícones e janelas
- (C) uma pasta para armazenar documentos
- (D) um dispositivo de entrada utilizado para movimentar o cursor
- (E) um software de segurança para proteger o sistema operacional

**13. IBFC - 2023**

Analise as afirmativas e escolha a única opção que esteja tecnicamente incorreta sobre o aplicativo do Windows 10 denominado Paint:

- (A) permite inserir textos na imagem com diferentes fontes, tamanhos e estilos
- (B) permite desenhar formas geométricas, como retângulos, círculos e triângulos
- (C) permite criar e editar desenhos em diferentes formatos, como: PDF, TXT e EXE
- (D) permite ampliar ou reduzir a imagem para ver os detalhes ou o conjunto

**14. IBFC - 2023**

Assinale a alternativa que apresenta um aplicativo que não seja nativo do Windows 10.

- (A) Microsoft Edge
- (B) Windows Explorer
- (C) Microsoft Paint
- (D) Adobe Photoshop

**15. IBFC - 2023**

Assinale a alternativa que apresenta o sistema operacional da Microsoft lançado em 2015.

- (A) Windows 8
- (B) Windows 10
- (C) Windows Vista
- (D) Windows 7

**16. IBFC - 2022**

Quanto ao Sistema Operacional Windows 10 e softwares, analise as afirmativas a seguir.

- I. É recomendado ter no mínimo 4GB de memória RAM.
- II. O Windows 10 possui uma versão de 32 bits e outra de 64 bits.
- III. É possível instalar o Windows 10 também em tablets.

Das afirmativas:

- (A) Apenas I e II são tecnicamente verdadeiras
- (B) Apenas II e III são tecnicamente verdadeiras
- (C) Apenas I e III são tecnicamente verdadeiras
- (D) I, II e III são tecnicamente verdadeiras

**17. IBFC - 2022**

Os atalhos para teclados deixam as ações mais rápidas no computador. Pressionando apenas duas ou três teclas é possível ter acesso a várias funções. No Windows 10, ao acionarmos ao mesmo tempo as três teclas: Ctrl + Alt + Delete:

- (A) deleta a janela atual do navegador
- (B) alterna entre as janelas do navegador
- (C) abre o Gerenciador de Tarefas do Windows
- (D) acessa a Central de Segurança do Windows

**18. IBFC - 2022**

No Sistema Operacional Windows 10 para personalizar a imagem de tela de bloqueio deve-se selecionar a seguinte sequência:

- (A) Iniciar > Personalização > Configurações > Tela de bloqueio
- (B) Iniciar > Configurações > Personalização > Tela de bloqueio
- (C) Configurações > Personalização > Iniciar > Tela de bloqueio
- (D) Personalização > Iniciar > Configurações > Tela de bloqueio

**19. IBFC - 2022**

A Microsoft define bibliotecas como sendo: “Bibliotecas são contêineres virtuais para o conteúdo dos usuários. Uma biblioteca pode conter arquivos e pastas armazenadas no computador local ou em um local de armazenamento remoto”. As 4 (quatro) bibliotecas padrão do Windows 10 são:

- (A) Diretórios - Arquivos - Imagens - Vídeos
- (B) Documentos - Arquivos - Imagens - Vídeos
- (C) Pastas - Diretórios - Arquivos - Multimídia
- (D) Documentos - Música - Imagens - Vídeos

**20. IBFC - 2022**

Quanto a temática “Sistema Operacional e Software”, analise as afirmativas abaixo e dê valores Verdadeiro (V) ou Falso (F).

( ) O Windows possui uma ferramenta denominada “desfragmentador de Disco”.

( ) Todo Sistema Operacional é considerado como o hardware do computador.

( ) O WordPad é o principal software do Windows para a edição de imagens.

Assinale a alternativa que apresenta a sequência **correta** de cima para baixo.

- (A) V - F - F
- (B) V - V - F
- (C) F - V - V
- (D) F - F - V

**21. IBFC - 2022**

O Sistema Operacional Windows apresenta vários softwares aplicativos, chamados de Acessórios do Windows, tais como:

- (1) Calculadora.
- (2) WordPad.
- (3) Bloco de Notas.

Da relação apresentada:

- (A) existem somente o 1 e 2
- (B) existem somente o 1 e 3
- (C) existem somente o 2 e 3
- (D) existem todos

**22. IBFC - 2022**

Quanto ao Sistema Operacional Windows 10, analise as afirmativas a seguir e assinale a alternativa correta.

I. Essa versão do Sistema Operacional da Microsoft pode ser usada em tablets.

II. O Microsoft Edge é o navegador padrão de internet (browser) do Windows 10.

III. Um dos principais acessórios desse Sistema Operacional é o Windows Explorer.

As afirmativas:

- (A) I e II são tecnicamente verdadeiras
- (B) II e III são tecnicamente verdadeiras
- (C) I e III são tecnicamente verdadeiras
- (D) I, II e III são tecnicamente verdadeiras

**23. IBFC - 2024**

Sobre o editor de texto Word do Microsoft Office, analise as afirmativas abaixo e dê valores Verdadeiro (V) ou Falso (F).

( ) Oferece uma ampla gama de opções de formatação de texto, incluindo tamanho da fonte, tipo de fonte, estilo de fonte e cor da fonte.

( ) Para criar e formatar tabelas de forma rápida e fácil, o Word necessita que seja instalado a planilha eletrônica do Excel.

( ) Só na última versão do Word existe uma variedade de opções para proteger documentos, incluindo proteção por senha.

Assinale a alternativa que apresenta a sequência correta de cima para baixo.

- (A) V - F - F
- (B) V - V - F
- (C) F - V - V
- (D) F - F - V

**24. IBFC - 2024**

Tanto no Excel, no PowerPoint ou no Word pode-se criar, por meio de um elemento gráfico, organogramas, diagramas e gráficos de fluxo. Analise a alternativa que apresenta o nome desse recurso.

- (A) ArtSmart
- (B) ClipArt
- (C) ArtClip
- (D) SmartArt

**25. IBFC - 2023**

Quanto às últimas versões do Editor de Texto do Pacote Microsoft Office (em português), temos no menu Revisão do Word os seguintes recursos, **exceto**:

- (A) Dicionário de Sinônimos
- (B) Ler em Voz Alta
- (C) Contagem de Palavras
- (D) Mostrar Comentários
- (E) Macros

**26. IBFC - 2023**

Quanto aos principais recursos existentes no editor de texto do Pacote Microsoft Office, analise as afirmativas abaixo e assinale a alternativa correta.

**I.** O Word possibilita a inserção de gráficos, planilhas e desenhos.

**II.** As últimas versões do Word não possuem revisor ortográfico.

**III.** O editor de texto da Microsoft contém o recurso de Mala-Direta.

Das afirmativas:

- (A) apenas I e II são tecnicamente verdadeiras
- (B) apenas II e III são tecnicamente verdadeiras
- (C) apenas I e III são tecnicamente verdadeiras
- (D) I, II e III são tecnicamente verdadeiras

**27. IBFC - 2023**

Quanto ao MS-Word, analise as afirmativas abaixo.

**I.** Não é possível alterar a fonte e o tamanho do texto no MS-Word.

**II.** É possível inserir imagens e gráficos em um documento no MS-Word.

**III.** O MS-Word permite a criação de documentos com duas colunas.

Estão corretas as afirmativas:

- (A) I e II apenas
- (B) II e III apenas
- (C) I e III apenas
- (D) I, II e III

**28. IBFC - 2022**

Quanto aos conceitos básicos do editor de texto do Pacote Microsoft Office, analise as afirmativas abaixo:

**I.** No momento da impressão não existe a opção de imprimir várias cópias.

**II.** É mais fácil criar um novo documento do Word usando um modelo.

**III.** Um documento criado em versões anteriores do Word pode ser aberto.

Estão corretas as afirmativas:

- (A) Apenas I e II são tecnicamente verdadeiras
- (B) Apenas II e III são tecnicamente verdadeiras
- (C) Apenas I e III são tecnicamente verdadeiras
- (D) I, II e III são tecnicamente verdadeiras

**29. IBFC - 2022**

Quanto ao editor de texto MS-Word, analise as afirmativas abaixo e dê valores Verdadeiro (V) ou Falso (F).

( ) Nas últimas versões do MS-Word é permitido o uso de modelos pré-definidos.

( ) O MS-Word possui somente como fontes o Times New Roman e o Arial.

( ) Atualmente o aplicativo MS-Word não faz parte do Pacote Microsoft Office.

Assinale a alternativa que apresenta a sequência correta de cima para baixo.

- (A) V - F - F
- (B) V - V - F
- (C) F - V - V
- (D) F - F - V

# CONHECIMENTOS GERAIS

## 1. IBFC - 2023

A região Sudeste concentra o maior número de população residente no Brasil, seguida pela região Nordeste (AGÊNCIA BRASIL, 2019). No que se refere às Unidades Federativas (UF) mais populosas do Brasil, segundo o Censo demográfico realizado pelo Instituto Brasileiro de Geografia e Estatísticas (IBGE) em 2010, assinale a alternativa **incorreta**.

- (A) São Paulo é a UF mais populosa do Brasil
- (B) Minas Gerais é a segunda UF mais populosa do Brasil
- (C) Rio de Janeiro é a terceira UF mais populosa do Brasil
- (D) Bahia é a quarta UF mais populosa do Brasil
- (E) Ceará é a quinta UF mais populosa do Brasil

## 2. IBFC - 2023

De acordo com os resultados do Censo Demográfico de 2022, há 23,8 pessoas por quilômetro quadrado no país. Com o aumento da população entre 2010 e 2022, atingindo o total de 203,1 milhões 3. do país passou de 22,43 para 23,8 habitantes por quilômetro quadrado (km<sup>2</sup>) no mesmo período.

(adaptado de IBGE, 2023).

Assinale a alternativa que preencha corretamente a lacuna.

- (A) Concentração urbana
- (B) Taxa de natalidade
- (C) Taxa de fecundidade
- (D) Densidade demográfica
- (E) Crescimento vegetativo

## 3. IBFC - 2023

Em 2021, considerando-se a linha de pobreza monetária proposta pelo Banco Mundial, a proporção de pessoas pobres no Brasil era de 18,6% entre os brancos e praticamente o dobro entre os pretos (34,5%) e entre os pardos (38,4%). Mais da metade (53,8%) dos trabalhadores do país em 2021 eram pretos ou pardos, mas esses grupos, somados, ocupavam apenas 29,5% dos cargos gerenciais, enquanto os brancos ocupavam 69,0% deles.

(IBGE, 2022)

Assinale a alternativa que indica corretamente o problema social brasileiro representado pelos dados do IBGE.

- (A) Aumento significativo de comunidades periféricas
- (B) Desemprego estrutural
- (C) Desigualdades sociais por cor ou raça no Brasil
- (D) Elevada taxa de mortalidade infantil
- (E) Queda do Produto Interno Bruto (PIB)

## 4. IBFC - 2023

Os primeiros resultados do Censo 2022 apontaram \_\_\_\_\_ como o estado mais populoso do país, concentrando 44,4 milhões de habitantes – cerca de um quinto da população brasileira. \_\_\_\_\_ continua sendo o estado menos populoso, com 636,3 mil habitantes, ainda que tenha apresentado a maior taxa de crescimento anual no período de 12 anos (2,92%).

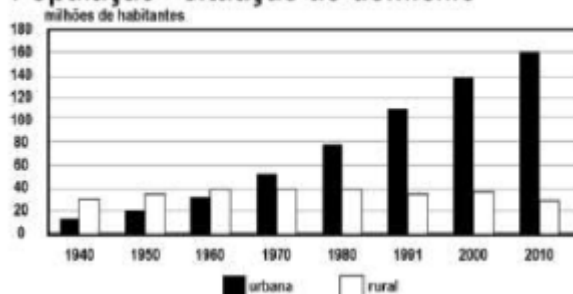
(adaptado de IBGE, 2023)

Assinale a alternativa que preencha correta e respectivamente as lacunas.

- (A) São Paulo / Roraima
- (B) São Paulo / Rondônia
- (C) Rio de Janeiro / Amapá
- (D) Minas Gerais / Acre
- (E) Minas Gerais / Tocantins

## 5. IBFC - 2021

### População - situação do domicílio



Fonte: IBGE. Atlas Geográfico Escolar – 8ª ed. Rio de Janeiro: IBGE, 2018.

O gráfico acima demonstra a evolução do número de habitantes no Brasil por situação de domicílio. Analise o gráfico acima e dê valores Verdadeiro (V) ou Falso (F):

( ) Até a década de 1960 a população brasileira era predominantemente rural.

( ) Em 1940 a população total brasileira era constituída por menos de 20 milhões de habitantes.

( ) Em 2010 a população total brasileira atingiu valores próximos de 190 milhões de habitantes.

( ) O gráfico comprova que houve forte aumento da taxa de fecundidade entre 1940 e 2010.

Assinale a alternativa que apresenta a sequência correta de cima para baixo.

(A) V, F, V, F

(B) F, V, F, V

(C) V, F, F, V

(D) F, V, V, F

#### 6. IBFC - 2019

“Contando os gatos e outros animais o número sobe para cem milhões. Segundo o IBGE, as famílias brasileiras cuidam de 52 milhões de cães contra 45 milhões de crianças. E a tendência indica que haverá cada vez mais espaço nas casas para os animais e menos para os filhos pequenos”. (ARIAS, EL PAÍS, jun.2015). Acerca da dinâmica populacional brasileira, assinale a alternativa correta:

(A) Tal fato se explica por haver uma verdadeira crise no tocante a proliferação de cães e gatos nos centros urbanos brasileiros

(B) As taxas de mortalidade infantil no Brasil têm se elevado na primeira década do séc XXI, o que justifica tal fato

(C) Este fato se relaciona às transformações assistidas na sociedade brasileira, como aumento da população urbana, avanços nos métodos contraceptivos, inserção das mulheres no mercado de trabalho e planejamento familiar

(D) Por ser um país de economia retardatária, o Brasil tem copiado o que acontece nos EUA, Europa e Japão

#### 7. IBFC - 2019

“Um dado emblemático que caracteriza bem a questão é a participação do homicídio como causa de mortalidade da juventude masculina (15 a 29 anos), que, em 2016, correspondeu a 50,3% do total de óbitos. Se considerarmos apenas os homens entre 15 e 19 anos, esse indicador atinge a incrível marca dos 56,5% [...]”. Os alarmantes dados revelam o crescimento do número de mortes violentas no Brasil, que segundo o mesmo estudo, chegaram à 62.567 mortes em 2016 (Atlas da Violência, 2018, p. 20 e 21). O

fragmento nos traz um primeiro recorte, que se refere ao apontamento do sexo das principais vítimas. Assinale a alternativa correta que complementa este recorte:

(A) Jovens negros e pardos são as principais vítimas dos homicídios, situação que ampliada para a morte de mulheres negras é ainda mais alarmante. A região Nordeste lidera este índice na relação número de mortes por 100 mil habitantes

(B) Há uma proximidade entre Negros e Não-Negros vitimados por mortes violentas no caso brasileiro, e a região Norte foi a grande responsável pela alarmante alta das mortes violentas

(C) A região Sudeste, em específico o Estado de São Paulo, teve expressivo aumento das taxas de mortes violentas

(D) O número de mortes no Estado do Rio de Janeiro teve acentuada queda no ano de 2016, o que se liga às políticas postas em prática e perpetuadas desde a primeira década dos anos 2000

#### 8. IBFC - 2019

Dados coletados pelo Instituto Brasileiro de Geografia e Estatística (IBGE) mostram que a população brasileira permaneceu, em sua maioria, rural até a década de 1960 e, nas décadas seguintes, passou a ser mais urbana. Sobre uma causa do êxodo rural no período citado, assinale a alternativa **incorreta**.

(A) A industrialização e a oferta de empregos nas cidades

(B) A ampliação das relações capitalistas e a mecanização do campo

(C) A desestruturação das relações tradicionais de trabalho no campo

(D) A desconcentração das terras no campo e a expansão dos latifúndios

#### 9. IBFC - 2019

“O rendimento nominal mensal domiciliar per capita é calculado como a razão entre o total dos rendimentos domiciliares (em termos nominais) e o total dos moradores” (IBGE, 2019). Sobre o rendimento nominal mensal domiciliar *per capita*, segundo o IBGE (2018), assinale a alternativa correta.

(A) O rendimento nominal mensal domiciliar *per capita* no Acre era de R\$101,00, ocupando a última posição entre os estados brasileiros

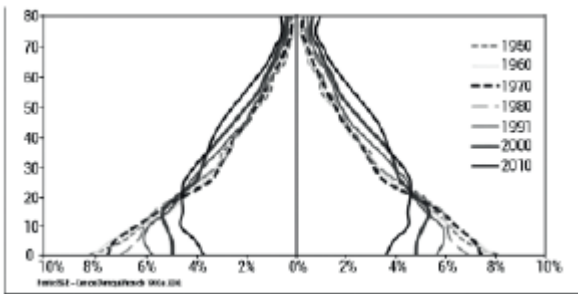
(B) O rendimento nominal mensal domiciliar *per capita* no Acre era de R\$909,00, ocupando a 16ª posição entre os estados brasileiros



- (C) O rendimento nominal mensal domiciliar *per capita* no Acre era de R\$1.615,00, ocupando a primeira posição entre os estados brasileiros
- (D) O rendimento nominal mensal domiciliar *per capita* no Acre era de R\$4.600,00, ocupando a 6ª posição entre os estados brasileiros

**10. IBFC - 2018**

A população brasileira passou por grandes mudanças ao longo do Século XX e início do XXI. Com base na pirâmide etária abaixo e seus conhecimentos, assinale a alternativa correta:



- Figura: Pirâmide etária 1950 – 2010. Fonte IBGE, 2018.
- (A) Observa-se o crescimento das taxas de mortalidade de infantil
- (B) Observa-se o processo de transição demográfica da população
- (C) Observa-se o aumento das taxas de natalidade na década de 1970 atribuídas a incentivos governamentais do período
- (D) Observa-se a projeção do aumento relativo da população economicamente ativa

**11. IBFC - 2017**

Assinale a alternativa correta.

“que preto, que branco, que índio o quê?  
que branco, que índio, que preto o quê?  
que índio, que preto, que branco o quê?  
(...)  
aqui somos mulatos  
cafuzos pardos mamelucos sararás  
crilouros guaranisseis e judárabes  
orientupis orientupis  
(...)  
somos o que somos  
inclassificáveis”

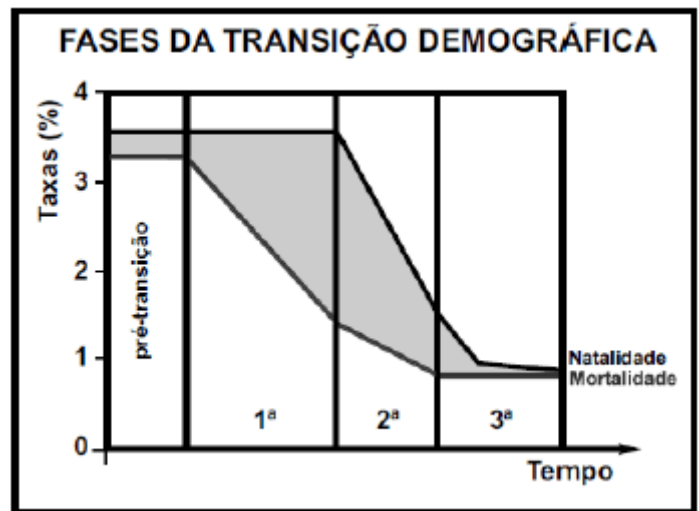
(adaptado) *Inclassificáveis* – Arnaldo Antunes

A ciência considera que a espécie humana é una e que não existem raças. O fragmento da canção, que expressa a base cultural da população brasileira, indica um processo. Assinale a alternativa que corretamente corresponde a esse processo:

- (A) genocídio indígena
- (B) hegemonia branca
- (C) permanência de população quilombola
- (D) miscigenação
- (E) europerização

**12. IBFC - 2011**

A partir da análise do gráfico abaixo, podemos constatar que:



“Imagem 2”

- (A) A população brasileira ainda se encontra na fase de pré- transição, pois verificamos uma altíssima taxa de natalidade em nosso país.
- (B) A população brasileira encontra-se na fase 3, pois o último Censo do IBGE nos mostrou uma redução da taxa de natalidade em relação ao Censo de 2000.
- (C) O Brasil se encontra na fase 2, pois ainda estamos na fase de “explosão demográfica”.
- (D) Nossa população ainda se encontra na fase 1, pois ainda possuímos as mais baixas taxas de expectativa de vida do mundo.

**13. IBFC - 2019**

No que se refere à mundialização do capitalismo e a geopolítica mundial no fim do século XX, analise as sentenças abaixo.

I. "O desenvolvimento do capitalismo pós Segunda Guerra Mundial deve ser entendido como o processo de consolidação dos oligopólios internacionais que deu origem às \_\_\_\_\_. Este processo teve como sujeitos principais a

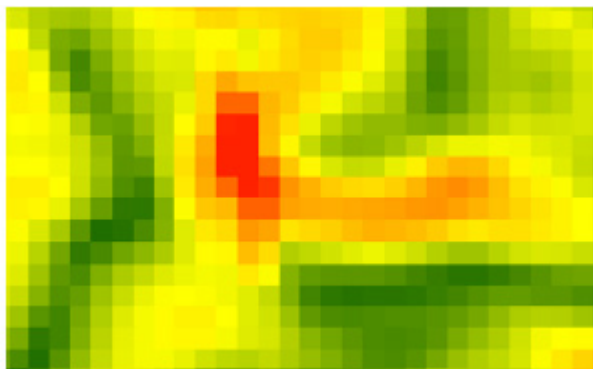
II. "A multinacionalização originou-se do processo de transformação das empresas \_\_\_\_\_ em empresas \_\_\_\_\_ e multinacionais, através da expansão por diferentes países via abertura de \_\_\_\_\_ [...]" (OLIVEIRA, 2011).

Assinale a alternativa que completa correta e respectivamente as lacunas.

- (A) Empresas Multinacionais / Estados Unidos / Nacionais / Internacionais / Filiais
- (B) Empresas Multinacionais / Países Europeus / Pequenas / Grandes / Filiais
- (C) Empresas Estatais / Países Sul-Americanos / Pequenas / Grandes / Blocos Econômicos
- (D) Empresas Estatais / Países da Ásia Oriental / Nacionais / Estatais / Blocos econômicos

**14. IBFC - 2019**

Em um Sistema de Informação Geográfica (SIG), as imagens digitais podem ser representadas por uma estrutura em grade, com n linhas e m colunas. Cada célula, denominada pixel, apresenta um valor z, que pode indicar, por exemplo, uma cor ou um tom de cinza, como mostra a figura abaixo.



Assinale a alternativa correta que apresenta o nome da estrutura mencionada acima.

- (A) Estrutura vetorial
- (B) Estrutura cartográfica
- (C) Estrutura matricial

(D) Estrutura radiométrica

**15. IBFC - 2014**

Os fluxos de capitais produtivos, de capitais especulativos, de mercadoria, de informações e de pessoas evidenciam como o avanço das técnicas relacionadas à informação tem se acelerado. Sobre esse assunto, assinale a alternativa correta.

- (A) O aumento do desenvolvimento em todas as regiões do mundo é uma questão incontestável.
- (B) O processo de globalização que já é bastante visível no mundo.
- (C) Pode-se notar a diminuição do crescimento populacional nas regiões mais pobres.
- (D) A diminuição do fluxo de mercadorias no comércio internacional é um fator marcante.

**16. IBFC - 2013**

Tomando como base a teoria de Ariolvaldo Umbelino de Oliveira (2001) [A mundialização do capitalismo e a geopolítica mundial do fim do século XX" In: Geografia do Brasil, 4. ed. São Paulo: EDUSP, 2001] julgue os itens a seguir sobre a mundialização do capitalismo:

I. No final da década de 1980, com a derrocada do polo socialista, a principal característica do mundo passou a ser a mundialização do capitalismo. Consolidaram-se os oligopólios internacionais por meio das multinacionais, favorecidas por três processos inter-relacionados: necessidade de movimentos internacionais de capitais, produção capitalista internacional e existência de ações de governos em nível internacional.

II. Os fluxos internacionais de capitais privados passaram a crescer mais que o fluxo de investimentos diretos feitos pelas multinacionais, fortalecendo o mercado financeiro. Assim, o capital nacional se aliou ao capital estrangeiro. A produção capitalista passou a ser necessariamente internacional para garantir competitividade, assim, a maior parte da força de trabalho empregada pelas multinacionais está fora do país em que se encontra sua sede corporativa. As ações internacionais do governo se fizeram sentir tanto na intervenção do Estado na economia como na definição de projetos de cooperação internacional. Organizações governamentais internacionais e organismos supranacionais passaram cada vez mais a fazer parte dessa nova fase do capitalismo mundializado. A unificação do capital financeiro internacional com a força de trabalho mundial reduz a independência dos Estados nacionais e exige a formação de instituições supranacionais para coordenar a interdependência crescente.

## 1. IBFC - 2022

Assinale a alternativa que preencha **corretamente** a lacuna.

Entre as diferenças da Lei da Improbidade Administrativa e da Lei Anticorrupção, evidencia-se que \_\_\_\_\_.

(A) constitui ato de improbidade administrativa que atenta contra os princípios da administração pública e a lei anticorrupção frustrar a licitude de concurso

(B) a Lei anticorrupção trata da responsabilização administrativa e civil de pessoas jurídicas (empresas) pela prática de atos de corrupção contra a administração pública, nacional ou estrangeira, e atende ao pacto internacional firmado pelo Brasil. A improbidade administrativa atenta contra os princípios da administração

(C) a configuração da Lei anticorrupção depende da presença de, pelo menos, um agente público como autor, coautor ou partícipe, já a do ato de improbidade não exige a presença de agente público como autor, coautor ou partícipe

(D) a configuração do ato de improbidade depende da presença de, pelo menos, um agente público como autor, coautor ou partícipe, já a Lei Anticorrupção não exige a presença de agente público como autor, coautor ou partícipe

## 2. IBFC - 2024

A Lei de Improbidade Administrativa (Lei nº 8.429/92) prevê 3 espécies de atos de improbidade: atos de improbidade administrativa que importam enriquecimento ilícito; atos de improbidade administrativa que causam prejuízo ao erário e; atos de improbidade administrativa que atentam contra os princípios da Administração Pública. Sobre o assunto, assinale a alternativa que apresente um ato de improbidade que atente contra os princípios da Administração Pública:

(A) Perceber vantagem econômica, direta ou indireta, para facilitar a alienação, permuta ou locação de bem público ou o fornecimento de serviço por ente estatal por preço inferior ao valor de mercado

(B) Permitir, facilitar ou concorrer para que terceiro se enriqueça ilicitamente

(C) Revelar fato ou circunstância de que tem ciência em razão das atribuições e que deva permanecer em segredo, propiciando beneficiamento por informação privilegiada ou colocando em risco a segurança da sociedade e do Estado

(D) Incorporar, por qualquer forma, ao seu patrimônio bens, rendas, verbas ou valores integrantes do acervo patrimonial das entidades públicas

(E) Perceber vantagem econômica para intermediar a liberação ou aplicação de verba pública de qualquer natureza

## 3. IBFC - 2024

Considerando o que dispõe a Lei nº 8.429, de 2 de junho de 1992, que dispõe sobre as sanções aplicáveis em virtude da prática de atos de improbidade administrativa, analise as afirmativas abaixo e dê valores Verdadeiro (V) ou Falso (F).

( ) Receber, para si ou para outrem, dinheiro, bem móvel ou imóvel, ou qualquer outra vantagem econômica, direta ou indireta, a título de comissão, percentagem, gratificação ou presente de quem tenha interesse, direto ou indireto, que possa ser atingido ou amparado por ação ou omissão decorrente das atribuições do agente público constitui atos de improbidade administrativa que causa prejuízo ao erário.

( ) Revelar fato ou circunstância de que tem ciência em razão das atribuições e que deva permanecer em segredo, propiciando beneficiamento por informação privilegiada ou colocando em risco a segurança da sociedade e do Estado constitui ato de improbidade administrativa que atenta contra os princípios da administração pública.

( ) Aceitar emprego, comissão ou exercer atividade de consultoria ou assessoramento para pessoa física ou jurídica que tenha interesse suscetível de ser atingido ou amparado por ação ou omissão decorrente das atribuições do agente público, durante a atividade Estado constitui ato de improbidade administrativa que atenta contra os princípios da administração pública.

Assinale a alternativa que apresenta a sequência correta de cima para baixo.

(A) V - F - V

- (B) F - V - F
- (C) F - F - V
- (D) V - V - F

#### 4. IBFC - 2024

O sistema de responsabilização por atos de improbidade administrativa tutelar a probidade na organização do Estado e no exercício de suas funções, como forma de assegurar a integridade do patrimônio público e social. Nos termos da lei, assinale a alternativa que apresenta o ato de improbidade administrativa que causa prejuízo ao erário.

- (A) Permitir que se utilize, em obra ou serviço particular, veículos, máquinas, equipamentos ou material de qualquer natureza, de propriedade ou à disposição da Administração direta
- (B) Deixar de prestar contas quando esteja obrigado a fazê-lo, desde que disponha das condições para isso, com vistas a ocultar irregularidades
- (C) Receber, para si ou para outrem, dinheiro, bem móvel ou imóvel, ou qualquer outra vantagem econômica, direta ou indireta, a título de comissão, percentagem, gratificação ou presente de quem tenha interesse direto ou indireto, que possa ser atingido ou amparado por ação ou omissão decorrente das atribuições do agente público
- (D) Receber vantagem econômica de qualquer natureza, direta ou indiretamente, para omitir ato de ofício, providência ou declaração a que esteja obrigado
- (E) Nomear cônjuge, companheiro ou parente em linha reta, colateral ou por afinidade, até o terceiro grau, inclusive, da autoridade nomeante ou de servidor da mesma pessoa jurídica investido em cargo de direção, chefia ou assessoramento, para o exercício de cargo em comissão ou de confiança

#### 5. IBFC - 2022

Constitui ato de improbidade administrativa que atenta contra os princípios da administração pública:

- (A) revelar ou permitir que chegue ao conhecimento de terceiro, antes da respectiva divulgação oficial, teor de medida política ou econômica capaz de afetar o preço de mercadoria, bem ou serviço
- (B) permitir, facilitar ou concorrer para que terceiro se enriqueça ilicitamente
- (C) frustrar a licitude de processo licitatório ou de processo seletivo para celebração de parcerias com entidades sem fins lucrativos, ou dispensá-los indevidamente, acarretando perda patrimonial efetiva

- (D) permitir ou facilitar a aquisição, permuta ou locação de bem ou serviço por preço superior ao de mercado
- (E) realizar operação financeira sem observância das normas legais e regulamentares ou aceitar garantia insuficiente ou inidônea

#### 6. IBFC - 2022

O sistema de responsabilização por atos de improbidade administrativa tutelar a probidade na organização do Estado e no exercício de suas funções, como forma de assegurar a integridade do patrimônio público e social. No que se refere aos atos de Improbidade Administrativa, assinale a alternativa que apresente um ato de improbidade administrativa que importe enriquecimento ilícito.

- (A) Permitir ou facilitar a aquisição, permuta ou locação de bem ou serviço por preço superior ao de mercado
- (B) Realizar operação financeira sem observância das normas legais e regulamentares ou aceitar garantia insuficiente ou inidônea
- (C) Liberar verba pública sem a estrita observância das normas pertinentes ou influir de qualquer forma para a sua aplicação irregular
- (D) Aceitar emprego, comissão ou exercer atividade de consultoria ou assessoramento para pessoa física ou jurídica que tenha interesse suscetível de ser atingido ou amparado por ação ou omissão decorrente das atribuições do agente público, durante a atividade

#### 7. IBFC - 2022

No que se refere à Lei de Improbidade Administrativa (Lei nº 8.429/1992), assinale a alternativa que apresenta um ato de improbidade administrativa que atente contra os princípios da Administração Pública.

- (A) Celebrar parcerias da administração pública com entidades privadas sem a observância das formalidades legais ou regulamentares aplicáveis à espécie
- (B) Deixar de prestar contas quando esteja obrigado a fazê-lo, desde que disponha das condições para isso, com vistas a ocultar irregularidades
- (C) Agir para a configuração de ilícito na celebração, na fiscalização e na análise das prestações de contas de parcerias firmadas pela administração pública com entidades privadas
- (D) Permitir, facilitar ou concorrer para que terceiro se enriqueça ilicitamente
- (E) Liberar verba pública sem a estrita observância das normas pertinentes ou influir de qualquer forma para a sua aplicação irregular

**8. IBFC - 2022**

Constitui ato de improbidade administrativa que atenta contra os princípios da administração pública a ação ou omissão dolosa que viole os deveres de honestidade, de imparcialidade e de legalidade. Sobre o assunto, assinale a alternativa que apresenta uma conduta que caracteriza ato de improbidade administrativa que atenta contra os princípios da Administração Pública.

- (A) Celebrar parcerias da administração pública com entidades privadas sem a observância das formalidades legais ou regulamentares aplicáveis à espécie
- (B) Agir para a configuração de ilícito na celebração, na fiscalização e na análise das prestações de contas de parcerias firmadas pela administração pública com entidades privadas
- (C) Revelar fato ou circunstância de que tem ciência em razão das atribuições e que deva permanecer em segredo, propiciando beneficiamento por informação privilegiada ou colocando em risco a segurança da sociedade e do Estado
- (D) Permitir, facilitar ou concorrer para que terceiro se enriqueça ilicitamente

**9. IBFC - 2022**

Assinale a alternativa que apresenta uma hipótese de ato de improbidade administrativa que importe em enriquecimento ilícito.

- (A) Permitir ou facilitar a aquisição, permuta ou locação de bem ou serviço por preço superior ao de mercado
- (B) Realizar operação financeira sem observância das normas legais e regulamentares ou aceitar garantia insuficiente ou inidônea
- (C) Conceder benefício administrativo ou fiscal sem a observância das formalidades legais ou regulamentares aplicáveis à espécie
- (D) Aceitar emprego, comissão ou exercer atividade de consultoria ou assessoramento para pessoa física ou jurídica que tenha interesse suscetível de ser atingido ou amparado por ação ou omissão decorrente das atribuições do agente público, durante a atividade

**10. IBFC - 2019**

Sobre os atos que atentem contra os princípios da Administração Pública, assinale a alternativa correta.

- (A) Permitir ou concorrer para que pessoa física ou jurídica privada utilize bens, rendas, verbas ou valores integrantes do acervo patrimonial das entidades mencionadas no art. 1º desta Lei

(B) Utilizar, em obra ou serviço particular, veículo, máquinas, equipamentos ou material de qualquer natureza, de propriedade ou à disposição de qualquer das entidades mencionadas no art. 1º desta Lei, bem como o trabalho de servidores públicos, empregados ou terceiros contratados por essas entidades

(C) Revelar ou permitir que chegue ao conhecimento de terceiro, antes da respectiva divulgação oficial, teor de medida política ou econômica capaz de afetar o preço da mercadoria, bem ou serviço

(D) Permitir ou facilitar a alienação, permuta ou locação de bens integrantes do patrimônio de qualquer das entidades referidas no art. 1º desta Lei, ou ainda a prestação de serviços por parte delas, por preço inferior ao de mercado

**11. IBFC - 2019**

Os Atos de Improbidade praticados por qualquer agente público, servidor ou não, contra a Administração Direta, Indireta ou Fundacional de qualquer dos poderes da União, dos Estados, do Distrito Federal, dos Municípios, de Território, de empresa incorporada ao patrimônio público ou de entidade para cuja criação ou custeio o erário haja concorrido ou concorra com mais de cinquenta por cento do patrimônio ou da receita anual, serão punidos na forma da Lei nº 8.429/1992. Em relação ao Ato de Improbidade Administrativa importando enriquecimento ilícito, assinale a alternativa correta.

(A) utilizar, em obra ou serviço particular, veículos, máquinas, equipamentos ou material de qualquer natureza, de propriedade ou à disposição de qualquer das entidades mencionadas no art. 1º da Lei nº 8.429/92, bem como o trabalho de servidores públicos, empregados ou terceiros contratados por essas entidades

(B) realizar operação financeira, sem observância das normas legais e regulamentares, ou aceitar garantia insuficiente ou inidônea

(C) agir negligentemente na arrecadação de tributo ou renda, bem como no que diz respeito à conservação do patrimônio público

(D) frustrar a licitude de concurso público

**12. IBFC - 2018**

Leia atentamente os itens abaixo e assinale a alternativa correta sobre os atos de improbidade administrativa.

(A) Todo ato imoral praticado na administração pública representa, necessariamente, um ato de improbidade administrativa

(B) Apenas os atos tipificados como crime podem ser considerados como atos de improbidade administrativa

(C) Todas as sanções decorrentes da improbidade administrativa têm natureza penal

(D) Todo ato de improbidade viola a moralidade administrativa, mas a recíproca não é verdadeira

### 13. IBFC - 2018

Os atos de improbidade administrativa estão previstos na Lei n. 8.429/1992 têm certas características. A esse respeito, assinale a alternativa correta.

(A) Violação aos princípios administrativos, vinculação partidária e nomeação por recurso ordinário

(B) Enriquecimento ilícito, dano ao erário e violação aos princípios administrativos

(C) Condenação penal, enriquecimento ilícito, contratação indevida de serviço

(D) Benefício indireto, vinculação partidária e nomeação por recurso ordinário

(E) Dano ao erário, condenação penal e cível, vinculação partidária

### 14. IBFC - 2017

Considere as regras básicas aplicáveis no Direito Administrativo para assinalar a alternativa correta sobre atos de improbidade.

(A) Constitui ato de improbidade administrativa que causa prejuízo ao erário receber, para si ou para outrem, vantagem econômica indireta de quem tenha interesse que possa ser atingido ou amparado por ação ou omissão decorrente das atribuições do agente público

(B) Constitui ato de improbidade administrativa que importa enriquecimento ilícito permitir ou facilitar a aquisição, permuta ou locação de bem ou serviço por preço superior ao de mercado

(C) Constitui ato de improbidade administrativa que importa enriquecimento ilícito realizar operação financeira sem observância das normas legais e regulamentares ou aceitar garantia insuficiente ou inidônea

(D) Constitui ato de improbidade administrativa que importa enriquecimento ilícito receber, para si ou para outrem, dinheiro, bem móvel ou imóvel, a título de comissão, de quem tenha interesse que possa ser atingido ou amparado por ação ou omissão decorrente das atribuições do agente público

(E) Constitui ato de improbidade administrativa que causa prejuízo ao erário usar, em proveito próprio, bens, rendas, verbas ou valores integrantes do acervo

patrimonial das entidades da Administração Pública

### 15. IBFC - 2017

**Não** constitui ato de improbidade administrativa importando enriquecimento ilícito o comportamento do agente público que:

(A) Recebe bem móvel a título de comissão de quem possa ser atingido ou amparado por ação ou omissão decorrente de suas atribuições

(B) Adquire, para si ou para outrem, mesmo fora do exercício de mandato, cargo, emprego ou função pública, bens de qualquer natureza cujo valor seja desproporcional à sua evolução patrimonial

(C) Exerce atividade de consultoria que tenha interesse suscetível de ser atingido ou amparado por ação ou omissão decorrente das atribuições do agente público

(D) Utiliza em obra particular veículo à disposição de autarquia

(E) Percebe vantagem econômica para intermediar a liberação ou aplicação de verba pública

### 16. IBFC - 2015

Dos Atos de Improbidade Administrativa que Importam Enriquecimento Ilícito contidos em lei, leia as sentenças abaixo e assinale a alternativa **correta**:

I. Perceber vantagem econômica, direta ou indireta, para facilitar a alienação, permuta ou locação de bem público ou o fornecimento de serviço por ente estatal por preço inferior ao valor de mercado é considerado ato de improbidade administrativa que importa enriquecimento ilícito.

II. Receber vantagem econômica de qualquer natureza, direta ou indireta, para fazer declaração falsa sobre medição ou avaliação em obras públicas ou qualquer outro serviço, ou sobre quantidade, peso, medida, qualidade ou característica de mercadorias ou bens fornecidos a qualquer das entidades mencionadas em lei, não é considerado ato de improbidade administrativa que importa enriquecimento ilícito. É classificado ato comum praticado pelo mercado sem punição legal prevista.

(A) Apenas a alternativa I está correta.

(B) Apenas a alternativa II está correta.

(C) As alternativas I e II estão corretas.

(D) As alternativas I e II estão incorretas.