

MP-RJ

500 questões gabaritadas
- Técnico do Ministério
Público- Área:
Administrativa



CÓD: SL-137FV-25
7908433271475

Questões Gabaritadas:

1. Língua Portuguesa	5
2. Raciocínio Lógico Matemático	37
3. Organização Do Ministério Público	57
4. Noções De Informática.....	83
5. Noções De Direito Administrativo E Constitucional	107

LÍNGUA PORTUGUESA

1. FGV - 2024

Assinale a opção em que as duas palavras estão corretamente grafadas.

- (A) previlégio / logaritmo.
- (B) enterter / protestar.
- (C) escombros / esplendor.
- (D) pretesto / contexto.
- (E) adiministrar / arriar.

2. FGV - 2024

Assinale a opção que apresenta a frase em que o termo sublinhado mostra um erro ortográfico.

- (A) O mais delicioso dos privilégios é gastar o dinheiro dos outros.
- (B) As seções de cinema ocorriam sucessivamente e as pessoas podiam ver um filme várias vezes.
- (C) Nesse ínterim ocorreu o terremoto em Lisboa.
- (D) Os bêbedos incomodam os passantes no bairro.
- (E) A escrita egípcia mostrava variados hieroglifos

3. FGV - 2023

Atenção: o texto a seguir refere-se a próxima questão.

Problemas da segurança pública

“Esse trabalho científico se destina a realizar uma análise sobre a situação da segurança pública do Brasil, enfatizando suas falhas. Sendo abordada a violência que assola o meio social, bem como o sentimento de impunidade. Dessa forma, são apresentados os aspectos que envolvem esse serviço público, como o trabalho da polícia e o sistema das prisões. Além disso, é evidenciada a política brasileira que se torna um empecilho à garantia de uma sociedade mais segura. É importante ressaltar que nesse trabalho será evidenciada a violência que tem como praticantes agentes que delinquem reiteradamente e que são réus de diversos processos penais.”

(Jus.com.br / 28-07-2015)

A seguinte palavra empregada no texto mostra duplicidade de formas gráficas igualmente corretas:

- (A) análise / análise.
- (B) enfatizando / enfatizando.
- (C) aspecto / aspeto.
- (D) assola / açola.

4. FGV - 2022

Assinale a opção em que só a primeira forma do vocábulo está **correta**.

- (A) abóboda / abóbada.
- (B) deslise / deslize.
- (C) mantegueira / manteigueira.
- (D) freada / freiada.
- (E) bandeija / bandeja.

5. FGV - 2024

Assinale a frase em que a grafia do “porquê” está correta.

- (A) Você certamente sabe por que acreditar num deus.
- (B) Gostaria de saber porque as pessoas boas dormem melhor à noite do que as pessoas más.
- (C) Muita luz também é ruim por que não deixa ver.
- (D) Amaria saber por quê não acreditar em Deus.
- (E) Deus criou o homem porquê ficou desapontado com o macaco.

6. FGV - 2024

As palavras abaixo estão todas grafadas propositalmente sem acentos gráficos.

Assinale a opção em que todos os vocábulos são paroxítonos.

- (A) avaro / pudico / erudito.
- (B) aziago / tulipa / refem.
- (C) Nobel / etiope / rubrica.
- (D) filantropo / estalido / lampada.
- (E) recém / textil / decano.

7. FGV - 2024

Todas as frases abaixo, copiadas de livros de Machado de Assis, mostram formas de diminutivo sublinhadas.

A forma que mostra um valor do diminutivo diferente dos demais é:

- (A) A pobre Clarinha, que havia ideado um paraíso no casamento, viu desfazer-se em fumo a sua quimera;
- (B) – Como estás, meu velho? disse com um risonho de mofa;
- (C) E isto basta a explicar a vigília; era despeito, um despeitozinho agudo como ponta de alfinete;
- (D) Tem andado alegre, como sempre; é uma ton-tinha. Aquilo, enquanto não pegar um peralta da vizinhança, que case com ela...;
- (E) Andam sempre aos segredinhos, sempre juntos. Bentinho quase não sai de lá.

8. FGV - 2024

A opção abaixo em que os dois adjetivos indicados NÃO variam em número nem em gênero, é:

- (A) rosa / creme;
- (B) branco / firme;
- (C) constante / frequente;
- (D) melhor / superior;
- (E) marrom / atuante.

9. FGV - 2024

Nas frases a seguir há várias formas de adjetivos referentes aos substantivos sublinhados.

Assinale a opção em que a forma de adjetivação está identificada **inadequadamente**.

- (A) Como todos os soldados, João também tinha cabelo curto. / adjetivo.
- (B) Apesar de pianista, o artista mostrava mãos grosseiras, rudes. / locução.
- (C) O livro que o professor recomendara, esgotou rapidamente. / oração adjetiva.
- (D) José era considerado um cabeça-de-vento. / substantivo composto.

10. FGV - 2024

As formas de participio são classificadas, em muitos casos, como adjetivos.

Assinale a frase em que a forma sublinhada corresponde à de um participio, sem equivaler a um adjetivo, substantivado ou não.

- (A) Não é raro ver-se, nas grandes crises da vida, os órgãos humanos adquirirem uma sensibilidade desconhecida.
- (B) Ainda bem que você é meu filho, senão eu iria me sentir desconfortável emprestando todo este dinheiro a um desconhecido.
- (C) Descobri que eu era um bebê não desejado quando vi meus brinquedos de banheira: uma torradeira e um rádio.
- (D) Um irmão é um amigo dado pela natureza.
- (E) Só conheço três maneiras de existir na sociedade: sendo mendigo, ladrão ou assalariado.

11. FGV - 2023

Muitas vezes podemos substituir uma locução adjetiva por um adjetivo.

Assinale a opção em que o termo sublinhado **não** pode ser substituído por um adjetivo.

- (A) O relógio tinha uma valiosa pulseira de ouro.
- (B) Os erros de ortografia devem ser evitados.
- (C) As lembranças dos filhos eram guardadas numa caixa.
- (D) Os livros de Matemática eram utilizados em sala.
- (E) As mensalidades dos alunos eram depositadas no banco.

12. FGV - 2024

Texto – A bananeira está em perigo. Conheça as soluções. (Fragmento; adaptado)

Robusta, nutritiva e abundante, ela é a fruta mais consumida do mundo. Mas também tem um ponto fraco: as bananeiras são geneticamente idênticas, clones umas das outras. Isso significa que uma doença poderia arrasar a produção mundial. Entenda o que ameaça a banana – e a corrida para tentar salvá-la.

Por Bruno Garattoni, Renata Cardoso e Leonardo Pujol

Carlos II, rei da Espanha entre 1665 e 1700, também era conhecido como Carlos, o Enfeitiçado. O apelido veio da aparência dele, que tinha o rosto estranhamente deformado, do seu déficit cognitivo (só começou a falar aos 4 anos de idade) e dos muitos problemas de saúde que enfrentou ao longo da vida.

A bananeira é o oposto disso. Trata-se de uma planta robusta e viçosa, que cresce rápido e dá muitos frutos: a banana é a fruta mais consumida do mundo, com 125 milhões de toneladas produzidas por ano [...].

Carlos II foi o resultado de uma série de casamentos consanguíneos, em que os membros da dinastia Habsburgo tiveram filhos entre si ao longo de várias gerações. [...] Mas a prática teve uma consequência terrível: os descendentes ficaram mais e mais parecidos geneticamente, e foram acumulando mutações causadoras de doenças.

[...]

A bananeira domesticada, cujas frutas nós comemos, não tem sementes. Isso a torna muito mais agradável de consumir. E também significa que a planta se reproduz de forma assexuada: o agricultor simplesmente corta um pedaço dela e enterra em outro lugar.

Nasce uma nova bananeira – que, eis o problema, é geneticamente idêntica à anterior. Ela não tem, como Carlos II não teve, um pai e uma mãe com genes bem diferentes, cuja mistura aperfeiçoa o DNA e ajuda a proteger contra doenças. As bananeiras são clones – por isso, um único patógeno pode exterminá-las todas.

E já existe um: o *Fusarium oxysporum*. Trata-se de um fungo que se desenvolve no solo, e infecta as raízes das bananeiras, impedindo que elas puxem água e nutrientes. Após a infecção, o solo fica contaminado por mais de 30 anos, e não há nada a fazer: o *F. oxysporum* é imune a todos os agrotóxicos.

[...]

O preço da banana

[...]

A banana comestível teria surgido no sudoeste asiático. Acredita-se que, entre 7 mil e 5 mil a.C., os nativos da Papua-Nova Guiné teriam feito cruzamentos e domesticado as bananeiras selvagens (cheias de sementes duras, de quebrar os dentes). E voilá: desenvolveram bananeiras que produzem frutos sem sementes.

Aqueles pontinhos pretos dentro da banana, caso você esteja se perguntando, não são sementes: trata-se de óvulos não fecundados. Isso porque os papuásios descobriram um método curioso para reproduzir a planta: bastava cortar e replantar um pedaço dela.

[...]

Os séculos se passaram, e, à medida que as rotas comerciais foram se espalhando pelo mundo, o mesmo aconteceu com a banana [...].

Foi quando ela chegou aos EUA, contudo, que a coisa mudou de patamar. [...] Em menos de duas décadas, os americanos já estavam comendo mais bananas do que maçãs ou laranjas. De olho nesse mercado, a Boston Fruit Company começou a comprar terras na América Central para cultivo e exportação da banana a partir de 1885.

Criada em 1899, a United Fruit Company (UFC) – atual Chiquita Brands International – se tornou a maior empresa do setor. Era tão poderosa que, na primeira metade do século 20, mandava nos governos da Guatemala e de Honduras, onde mantinha plantações – foi daí que surgiu a expressão “república das bananas”.

[...]

Em 1951, Juan Jacobo Árbenz Guzmán, de apenas 38 anos, foi eleito presidente da Guatemala com a promessa de fazer duas reformas: uma trabalhista e outra agrária, que garantissem salários justos e devolvessem parte da terra aos pequenos agricultores.

A United Fruit, obviamente, não gostou. Se opôs duramente ao novo governo, e em agosto de 1953 conseguiu convencer o presidente dos EUA, Dwight D. Eisenhower, a patrocinar um golpe de estado na Guatemala.

A operação, de codinome PBSuccess, foi organizada pela CIA – que armou, financiou e treinou 480 homens, liderados pelo coronel guatemalteco Carlos Castillo Armas, e também organizou um bloqueio naval.

As tropas de Castillo invadiram o país em 18 de junho de 1954, o Exército não reagiu – e, nove dias depois, o presidente Guzmán acabou forçado a renunciar. **A Guatemala mergulhou em uma guerra civil que duraria 36 anos.** E a United retomou seu poder. [...]

Disponível em: <https://super.abril.com.br/ciencia/o-futuro-da-banana>

“A banana comestível teria surgido no sudoeste asiático.”

“A Guatemala mergulhou em uma guerra civil que duraria 36 anos.”

Nas duas passagens acima, o futuro do pretérito exprime significados distintos.

A alternativa em que o futuro do pretérito apresenta, respectivamente, os mesmos significados observados nas passagens acima é:

- (A) O acusado alegou que a vítima teria reagido. / Ele avisou que chegaria tarde;
- (B) Se eu fosse você, não viria. / Mesmo em uma situação dramática, ele não colaboraria;
- (C) Antigamente, eu achava que estaria rico aos 30 anos. / Quem aceitaria uma proposta dessas?!
- (D) Você me ajudaria com esse problema? / Antigamente, eu achava que estaria rico aos 30 anos;
- (E) Ninguém te ajudaria, caso isso tivesse acontecido. / Naquele momento, eu não sabia que daria tudo certo.

13. FGV - 2022

Todas as frases abaixo trazem as formas verbais no modo imperativo; a frase em que esse imperativo expressa um desejo, é:

- (A) Fiquem quietos para as fotos!
- (B) Tragam-me o prisioneiro!
- (C) Mostre-me o seu desenho!
- (D) Não façam mais isso!
- (E) Pare de fumar!

14. FGV - 2021

“A Polícia Militar foi informada que o criminoso, usando um alicate grande, teria cortado o cadeado do portão da residência, porém, o cachorro da casa começou a latir e o homem fugiu.

Populares seguiram o criminoso, acionaram a Polícia Militar, ele recebeu voz de prisão e foi encaminhado para a Central de Flagrantes.”

(Rondoniagora, 17/09/2021)

Esse segmento de texto é predominantemente narrativo; as duas formas verbais que mostram sequência cronológica são:

- (A) foi informada / usando;
- (B) usando / teria cortado;
- (C) teria cortado / começou a latir;
- (D) seguiram / acionaram;
- (E) recebeu / foi encaminhado.

15. FGV - 2021

Todos os ditados a seguir mostram formas do verbo ter, que é amplamente empregado em lugar de outros verbos.

Assinale a opção que apresenta o ditado em que se propõe um substituto adequado para esse verbo.

- (A) Gato escaldado tem medo de água fria / possui.
- (B) O cão tem quatro patas, mas não pode seguir quatro caminhos / dispõe de.
- (C) Quem pouco semeia tem escassa colheita / recebe.
- (D) Há o que finge ser rico e nada tem / demonstra.
- (E) O que semeia justiça tem paga segura / adquire.

16. FGV - 2021

“A gramática, a mesma árida gramática, transforma-se em algo parecido a uma feitiçaria evocatória; as palavras ressuscitam revestidas de carne e osso, o substantivo em sua majestade substancial, o adjetivo, roupa transparente que o veste e colore como um verniz, e o verbo, anjo do movimento que dá impulso à frase”. (Baudelaire)

Nessa frase, a classe gramatical dos verbos é caracterizada como “anjo do movimento que dá impulso à frase”; a frase abaixo cujo verbo foge a essa característica é:

- (A) Todos os convidados chegaram na hora;
- (B) Muitos candidatos andam preocupados com as provas;
- (C) Ninguém compreende integralmente um texto;
- (D) Alguns autores produzem novos livros rapidamente;
- (E) Leio vários livros ao mesmo tempo.

17. FGV - 2024

Em todas as frases abaixo - cujo tema é a verdade - há pronomes pessoais sublinhados que se referem a ela, criando coesão. Assinale a opção em que o pronome sublinhado exemplifica um pronome reto.

- (A) Quando nós vivemos a verdade, deixamos de conversar sobre ela.
- (B) O pior que uma pessoa pode fazer em relação à verdade é conhecê-la e virar-lhe as costas
- (C) Eu vi a verdade e ela não faz nenhum sentido.

RACIOCÍNIO LÓGICO MATEMÁTICO

1. FGV - 2024

Uma bandeja contém nove empadas de mesmo tamanho e aparência, mas com recheios diferentes: quatro são de frango, três são de palmito e duas são de camarão. Uma pessoa retira, ao acaso, duas dessas empadas.

A probabilidade de que ambas sejam de palmito é igual a:

- (A) $\frac{1}{3}$
- (B) $\frac{1}{6}$
- (C) $\frac{1}{9}$
- (D) $\frac{2}{9}$
- (E) $\frac{1}{12}$

2. FGV - 2023

Em uma caixa há 5 cartas e cada uma delas contém um dos números: 1, 3, 4, 5, 8. Não aparece o mesmo número em duas cartas.

Dois cartas são retiradas da caixa ao acaso.

A probabilidade de que o produto dos números dessas cartas seja um número par é de

- (A) 30%.
- (B) 40%.
- (C) 50%.
- (D) 60%.
- (E) 70%.

3. FGV - 2023

Joaquim jogou um dado de seis faces, não viciado, por duas vezes, uma após a outra. A probabilidade de o resultado do segundo lançamento ser maior que o do primeiro lançamento é de:

- (A) $\frac{1}{12}$;
- (B) $\frac{1}{6}$;
- (C) $\frac{1}{3}$;
- (D) $\frac{5}{12}$;
- (E) $\frac{1}{2}$.

4. FGV - 2022

Bárbara escreveu cada uma das 13 letras da palavra PROBABILIDADE em 13 cartões que foram colocados em uma urna. Depois, Bárbara retirou em sequência 2 cartões da urna, sem reposição.

A probabilidade de que Bárbara tenha retirado os 2 cartões com a letra B é:

- (A) $\frac{1}{78}$
- (B) $\frac{1}{39}$
- (C) $\frac{1}{26}$
- (D) $\frac{2}{13}$
- (E) $\frac{1}{13}$

5. FGV - 2021

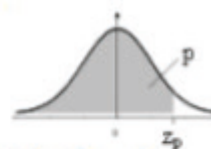
Marcelo joga, simultaneamente, dois dados cúbicos honestos cujas faces estão numeradas de 1 a 6.

A probabilidade de os dois números sorteados serem consecutivos é:

- (A) $\frac{5}{18}$
- (B) $\frac{5}{36}$
- (C) $\frac{1}{3}$
- (D) $\frac{1}{9}$
- (E) $\frac{7}{36}$

6. FGV - 2022

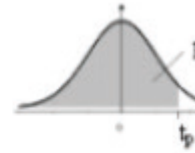
Distribuição Normal Padrão Acumulada



Fornece $\Phi(z) = P(-\infty < Z \leq z)$, para todo z , de 0,01 em 0,01, desde $z = 0,00$ até $z = 3,59$
 A distribuição de Z é Normal(0;1)

z	0,00	0,01	0,02	0,03	0,04	0,05	0,06	0,07	0,08	0,09
0,0	0,5000	0,5040	0,5080	0,5120	0,5160	0,5199	0,5239	0,5279	0,5319	0,5359
0,1	0,5398	0,5438	0,5478	0,5517	0,5557	0,5596	0,5636	0,5675	0,5714	0,5753
0,2	0,5793	0,5832	0,5871	0,5910	0,5948	0,5987	0,6026	0,6064	0,6103	0,6141
0,3	0,6179	0,6217	0,6255	0,6293	0,6331	0,6368	0,6406	0,6443	0,6480	0,6517
0,4	0,6554	0,6591	0,6628	0,6664	0,6700	0,6736	0,6772	0,6808	0,6844	0,6879
0,5	0,6915	0,6950	0,6985	0,7019	0,7054	0,7088	0,7123	0,7157	0,7190	0,7224
0,6	0,7257	0,7291	0,7324	0,7357	0,7389	0,7422	0,7454	0,7486	0,7517	0,7549
0,7	0,7580	0,7611	0,7642	0,7673	0,7704	0,7734	0,7764	0,7794	0,7823	0,7852
0,8	0,7881	0,7910	0,7939	0,7967	0,7995	0,8023	0,8051	0,8078	0,8106	0,8133
0,9	0,8159	0,8186	0,8212	0,8238	0,8264	0,8289	0,8315	0,8340	0,8365	0,8389
1,0	0,8413	0,8438	0,8461	0,8485	0,8508	0,8531	0,8554	0,8577	0,8599	0,8621
1,1	0,8643	0,8665	0,8686	0,8708	0,8729	0,8749	0,8770	0,8790	0,8810	0,8830
1,2	0,8849	0,8869	0,8888	0,8907	0,8925	0,8944	0,8962	0,8980	0,8997	0,9015
1,3	0,9032	0,9049	0,9066	0,9082	0,9099	0,9115	0,9131	0,9147	0,9162	0,9177
1,4	0,9192	0,9207	0,9222	0,9236	0,9251	0,9265	0,9279	0,9292	0,9306	0,9319
1,5	0,9332	0,9345	0,9357	0,9370	0,9382	0,9394	0,9406	0,9418	0,9429	0,9441
1,6	0,9452	0,9463	0,9474	0,9484	0,9495	0,9505	0,9515	0,9525	0,9535	0,9545
1,7	0,9554	0,9564	0,9573	0,9582	0,9591	0,9599	0,9608	0,9616	0,9625	0,9633
1,8	0,9641	0,9649	0,9656	0,9664	0,9671	0,9678	0,9686	0,9693	0,9699	0,9706
1,9	0,9713	0,9719	0,9726	0,9732	0,9738	0,9744	0,9750	0,9756	0,9761	0,9767
2,0	0,9772	0,9778	0,9783	0,9788	0,9793	0,9798	0,9803	0,9808	0,9812	0,9817
2,1	0,9821	0,9826	0,9830	0,9834	0,9838	0,9842	0,9846	0,9850	0,9854	0,9857
2,2	0,9861	0,9864	0,9868	0,9871	0,9875	0,9878	0,9881	0,9884	0,9887	0,9890
2,3	0,9893	0,9896	0,9898	0,9901	0,9904	0,9906	0,9909	0,9911	0,9913	0,9916
2,4	0,9918	0,9920	0,9922	0,9925	0,9927	0,9929	0,9931	0,9932	0,9934	0,9936
2,5	0,9938	0,9940	0,9941	0,9943	0,9945	0,9946	0,9948	0,9949	0,9951	0,9952
2,6	0,9953	0,9955	0,9956	0,9957	0,9959	0,9960	0,9961	0,9962	0,9963	0,9964
2,7	0,9965	0,9966	0,9967	0,9968	0,9969	0,9970	0,9971	0,9972	0,9973	0,9974
2,8	0,9974	0,9975	0,9976	0,9977	0,9977	0,9978	0,9979	0,9979	0,9980	0,9981
2,9	0,9981	0,9982	0,9982	0,9983	0,9984	0,9984	0,9985	0,9985	0,9986	0,9986
3,0	0,9987	0,9987	0,9987	0,9988	0,9988	0,9989	0,9989	0,9989	0,9990	0,9990
3,1	0,9990	0,9991	0,9991	0,9991	0,9992	0,9992	0,9992	0,9992	0,9993	0,9993
3,2	0,9993	0,9993	0,9994	0,9994	0,9994	0,9994	0,9994	0,9995	0,9995	0,9995
3,3	0,9995	0,9995	0,9995	0,9996	0,9996	0,9996	0,9996	0,9996	0,9996	0,9997
3,4	0,9997	0,9997	0,9997	0,9997	0,9997	0,9997	0,9997	0,9997	0,9997	0,9998
3,5	0,9998	0,9998	0,9998	0,9998	0,9998	0,9998	0,9998	0,9998	0,9998	0,9998

Distribuição t de Student



Fornece o quantil t_p em função do n° de g.l. v (linha) e de $p = P(T \leq t_p)$ (coluna)
 T tem distribuição t de Student com v g.l.

$v \backslash p$	0,6	0,7	0,8	0,9	0,95	0,975	0,98	0,99	0,995
1	0,325	0,727	1,376	3,078	6,314	12,706	15,895	31,821	63,657
2	0,289	0,617	1,061	1,886	2,920	4,303	4,849	6,965	9,925
3	0,277	0,584	0,978	1,638	2,353	3,182	3,482	4,541	5,841
4	0,271	0,569	0,941	1,533	2,132	2,776	2,999	3,747	4,604
5	0,267	0,559	0,920	1,476	2,015	2,571	2,757	3,365	4,032
6	0,265	0,553	0,906	1,440	1,943	2,447	2,612	3,143	3,707
7	0,263	0,549	0,896	1,415	1,895	2,365	2,517	2,998	3,499
8	0,262	0,546	0,889	1,397	1,860	2,306	2,449	2,896	3,355
9	0,261	0,543	0,883	1,383	1,833	2,262	2,398	2,821	3,250
10	0,260	0,542	0,879	1,372	1,812	2,228	2,359	2,764	3,169
11	0,260	0,540	0,876	1,363	1,796	2,201	2,328	2,718	3,106
12	0,259	0,539	0,873	1,356	1,782	2,179	2,303	2,681	3,055
13	0,259	0,538	0,870	1,350	1,771	2,160	2,282	2,650	3,012
14	0,258	0,537	0,868	1,345	1,761	2,145	2,264	2,624	2,977
15	0,258	0,536	0,866	1,341	1,753	2,131	2,249	2,602	2,947
16	0,258	0,535	0,865	1,337	1,746	2,120	2,235	2,583	2,921
17	0,257	0,534	0,863	1,333	1,740	2,110	2,224	2,567	2,898
18	0,257	0,534	0,862	1,330	1,734	2,101	2,214	2,552	2,878
19	0,257	0,533	0,861	1,328	1,729	2,093	2,205	2,539	2,861
20	0,257	0,533	0,860	1,325	1,725	2,086	2,197	2,528	2,845
21	0,257	0,532	0,859	1,323	1,721	2,080	2,189	2,518	2,831
22	0,256	0,532	0,858	1,321	1,717	2,074	2,183	2,508	2,819
23	0,256	0,532	0,858	1,319	1,714	2,069	2,177	2,500	2,807
24	0,256	0,531	0,857	1,318	1,711	2,064	2,172	2,492	2,797
25	0,256	0,531	0,856	1,316	1,708	2,060	2,167	2,485	2,787
26	0,256	0,531	0,856	1,315	1,706	2,056	2,162	2,479	2,779
27	0,256	0,531	0,855	1,314	1,703	2,052	2,158	2,473	2,771
28	0,256	0,530	0,855	1,313	1,701	2,048	2,154	2,467	2,763
29	0,256	0,530	0,854	1,311	1,699	2,045	2,150	2,462	2,756
30	0,256	0,530	0,854	1,310	1,697	2,042	2,147	2,457	2,750
40	0,255	0,529	0,851	1,303	1,684	2,021	2,123	2,423	2,704
60	0,254	0,527	0,848	1,296	1,671	2,000	2,099	2,390	2,660
120	0,254	0,526	0,845	1,289	1,658	1,980	2,076	2,358	2,617
∞	0,253	0,524	0,842	1,282	1,645	1,960	2,054	2,326	2,576

Se A e B são eventos tais que $P[A \cup B] = 0,8$; $P[A] = 0,5$; $P[B] = 0,2$, então a probabilidade condicional $P[B | A]$ é igual a

- (A) 0,05.
- (B) 0,1.
- (C) 0,2.
- (D) 0,25.
- (E) 0,5

7. FGV - 2021

Marcela é praticante de tiro ao alvo. Quando ela acerta um tiro no alvo, a probabilidade de ela acertar o tiro seguinte é de 90%. Quando ela erra um tiro, a probabilidade de ela acertar o próximo tiro é de 80%. Hoje, Marcela errou o primeiro tiro. A probabilidade de ela acertar o terceiro tiro é de

- (A) 80%.
- (B) 84%.
- (C) 86%.
- (D) 88%.
- (E) 90%.

8. FGV - 2024

Se A e B são eventos tais que $P[A] = 0,6$ e $P[B] = 0,8$, avalie as afirmativas a seguir:

- I. A e B não podem ser independentes.
- II. O maior valor possível de $P[A \cup B]$ é 1,0.
- III. O maior valor possível de $P[A \cap B]$ é 0,6.

Está correto o que se afirma em

- (A) I, apenas.
- (B) I e II, apenas.
- (C) I e III, apenas.
- (D) II e III, apenas.
- (E) I, II e III

9. FGV - 2024

Uma barragem conhecida pelo nome de BARREIRA, situada em uma área propensa a terremotos, está sujeita à ocorrência de dois eventos (A e B) que podem causar sua ruptura.

- Evento A: a ocorrência de uma enchente maior que a cheia de projeto do vertedouro; e
- Evento B: o colapso estrutural devido a um terremoto destrutivo.

Com base em dados anuais observados nessa área, foram estimadas as seguintes probabilidades de ocorrência dos eventos A e B: $P(A) = 0,05$ e $P(B) = 0,02$.

Considerando que a probabilidade da ocorrência simultânea dos eventos A e B é nula, a probabilidade de a barragem se romper em um ano qualquer, baseando-se apenas nesses valores, é:

- (A) 0,02.
- (B) 0,03.
- (C) 0,05.
- (D) 0,07.
- (E) 0,09.

10. FGV - 2024

Considere os conjuntos A e B e a seguinte afirmação:

“Os conjuntos A e B são disjuntos.” Assinale a opção que apresenta corretamente a representação simbólica para tal afirmação.

- (A) $A \cap B \neq \emptyset$
- (B) $A \cap B = \emptyset$
- (C) $A \cap B = 0$
- (D) $A \cup B = \emptyset$
- (E) $A \cup B \neq \emptyset$

11. FGV - 2024

Se o conjunto A está contido no conjunto B, então, necessariamente,

- (A) $A \cup B = A$
- (B) $A \cap B = B$
- (C) $A \cap B = A$
- (D) $A \cap B = \emptyset$
- (E) $A = B$

12. FGV - 2024

Uma pesquisa, realizada com setenta e cinco indivíduos a respeito de como cada um deles se informa diariamente sobre as notícias do país, obteve os seguintes resultados:

- 20% dos entrevistados não se informam pela TV, dentre os quais, um terço também não se informa por jornal;
- 30% dos que se informam pela TV também se informam por jornal.

A quantidade de entrevistados que usa diariamente apenas um dos dois veículos de informação descritos acima é igual a

- (A) 18.
- (B) 42.
- (C) 52.
- (D) 60.
- (E) 70.

13. FGV - 2022

Em um grupo de 50 pessoas, 27 gostam de filmes de suspense e 32 gostam de filmes de terror.

Com relação a essas 50 pessoas, é correto concluir que

- (A) no máximo 18 delas não gostam de filmes de suspense nem de filmes de terror.
- (B) exatamente 9 delas gostam tanto de filmes de suspense como de filmes de terror.

1. FGV - 2023

Gildo e Marlene serão investidos em cargos do Poder Executivo do Estado do Rio de Janeiro.

Gildo não integra o quadro de servidores e ocupará um cargo em comissão, enquanto Marlene foi aprovada em concurso público para o provimento de cargo efetivo. Sobre a hipótese apresentada, à luz do Decreto-Lei nº 220/1975 do Estado do Rio de Janeiro, assinale a afirmativa **correta**.

- (A) A investidura de ambos dar-se-á com a nomeação.
- (B) A investidura de Gildo dar-se-á com o efetivo exercício e a de Marlene com a nomeação.
- (C) A investidura de Marlene dar-se-á com o efetivo exercício e a de Gildo com a posse.
- (D) A investidura de Gildo ocorrerá com sua nomeação e a de Marlene com a posse.
- (E) A investidura de cada um deles decorrerá das respectivas posses.

2. FGV - 2022

José, servidor público estável ocupante do cargo de investigador policial da Polícia Civil do Estado do Rio de Janeiro, sofreu um acidente de carro que lhe causou incapacidade física para exercer as funções que até então exercia.

No caso em tela, de acordo com a Constituição da República de 1988 e o Decreto nº 2.479/1979, que consiste no Regulamento do Estatuto dos Funcionários Públicos Civis do Poder Executivo do Estado do Rio de Janeiro, José será:

- (A) transferido para outro cargo integrante da administração direta ou autárquica estadual, de equivalentes escolaridade e vencimentos;
- (B) aproveitado em cargo de natureza e vencimento superiores ao anteriormente ocupado, mediante prévio processo administrativo;
- (C) aposentado por invalidez, com proventos proporcionais ao tempo de serviço, mediante prévia inspeção realizada por junta médica do órgão oficial competente e desde que não possa mais desenvolver as atividades afetas a seu cargo;

(D) reintegrado em cargo equivalente ao anteriormente ocupado e, se alterado o cargo, no resultante da alteração e, ainda, se extinto o cargo, noutra observada a habilitação profissional e a equivalência de vencimentos;

(E) readaptado para exercício de cargo cujas atribuições e responsabilidades sejam compatíveis com a limitação que sofreu, mediante prévia inspeção realizada por junta médica do órgão oficial competente.

3. FGV - 2023

O Estatuto dos Funcionários Públicos Civis do Poder Executivo do Estado do Rio de Janeiro, regulamentado pelo Decreto-Lei nº 220/1975, especifica deveres e direitos que devem ser respeitados pelos servidores estaduais.

Assinale a opção que apresenta corretamente um dos deveres previstos no Estatuto.

- (A) Obediência às ordens superiores, ainda que manifestamente ilegais.
- (B) Guardar sigilo sobre assunto de natureza reservada, exceto os que tenha conhecimento em razão do cargo.
- (C) Zelar pela economia do material que lhe for confiado, desde que de grande vulto.
- (D) Submeter-se à inspeção médica determinada por autoridade competente, salvo por justa causa.
- (E) Respeitar as regras e regulamentos que tratam da assiduidade, com exceção da exigência de ponto eletrônico.

4. FGV - 2022

Márcia, servidora pública ocupante do cargo de investigador policial da Polícia Civil do Estado do Rio de Janeiro, vai se casar e está programando sua lua de mel.

Ao proceder à leitura do Estatuto dos Funcionários Públicos Civis do Poder Executivo do Estado do Rio de Janeiro (Decreto-Lei nº 220/1975), Márcia verificou que, em razão do casamento, poderá se afastar por até:

- (A) quinze dias, período considerado como efetivo exercício;
- (B) cinco dias, período considerado como efetivo exercício;
- (C) oito dias, período considerado como efetivo exercício;
- (D) cinco dias, período considerado como efetivo exercício, exceto para promoção por merecimento;
- (E) oito dias, período considerado como efetivo exercício, exceto para promoção por merecimento.

5. FGV - 2023

Joyce, servidora pública ocupante de cargo de assistente técnico em regulação da Agenersa, nessa qualidade, praticou ilícito grave, que causou prejuízo a terceiros, sendo certo que sua conduta, a um só tempo, configura conduta passível de responsabilização nas esferas penal, civil e administrativa.

Sobre a hipótese narrada, considerando o regime jurídico que rege os servidores do Poder Executivo do Estado do Rio de Janeiro, assinale a afirmativa **correta**.

- (A) Eventual responsabilização na esfera penal exime Joyce de responsabilidade civil e administrativa.
- (B) A aplicação de sanção disciplinar à Joyce depende da configuração da responsabilidade em âmbito penal.
- (C) A responsabilização de Joyce não pode decorrer de procedimento culposo que cause lesão a terceiros.
- (D) Como o dano foi causado a terceiro, Joyce responderá à Fazenda Estadual em ação regressiva proposta depois de transitar em julgado a decisão de última instância que houver condenado a Fazenda a indenizar o terceiro prejudicado.
- (E) A decisão judicial que condenar Joyce na esfera civil, considerando que o dano não foi causado à Fazenda Estadual, afasta eventuais cominações disciplinares.

6. FGV - 2021

João, Secretário de Segurança Pública do Estado Alfa, após regular processo administrativo disciplinar, aplicou ao policial Antônio a pena de suspensão por 60 dias. No dia seguinte à publicação da penalidade no Diário Oficial, o policial Antônio apresentou pedido de reconsideração, comprovando que a falta disciplinar praticada está prevista no estatuto normativo próprio como passível de advertência e não suspensão. Ocorre que, na mesma data da publicação do ato no D.O., por ato do Governador do Estado, João deixou de ser Secretário de Segurança Pública e, em seu lugar, assumiu o Coronel Mário. Ao analisar o pedido de reconsideração do policial Antônio, o Secretário Mário verificou que, de fato, a penalidade a que Antônio deveria ter sido condenado era advertência, e não suspensão, na forma da normativa aplicável. No caso em tela, o Secretário Mário deve

- (A) acolher o recurso de reconsideração de Antônio, com base nos princípios administrativos da autotutela e da proporcionalidade.
- (B) acolher o recurso de reconsideração de Antônio, com base nos princípios administrativos da impessoalidade e da intranscendência subjetiva das sanções.
- (C) desacolher o recurso de reconsideração de Antônio, com base nos princípios administrativos da segurança jurídica e da autotutela.
- (D) desacolher o recurso de reconsideração de Antônio, com base nos princípios administrativos da intranscendência subjetiva das sanções e da legalidade.
- (E) desacolher o recurso de reconsideração de Antônio, com base nos princípios administrativos da proporcionalidade e da segurança jurídica.

7. FGV - 2021

José, perito criminal da Polícia Civil do Estado do Rio de Janeiro, que exerce a função de diretor de determinado Posto Regional de Polícia Técnica e Científica, responde a processo administrativo disciplinar (PAD) por falta grave. No curso do PAD, ficou comprovado que José, no exercício das funções, está ocultando provas imprescindíveis para total elucidação dos fatos apurados.

Dessa forma, com base no Estatuto dos Funcionários Públicos Civis do Poder Executivo do Estado do Rio de Janeiro (Decreto-Lei nº 220/1975), o secretário de Polícia Civil verificou que o afastamento de José era necessário para que não continuasse influenciando na apuração da falta e, de forma fundamentada, decretou sua suspensão preventiva:

(A) por sessenta dias, período no qual José fará jus ao recebimento de sua remuneração com valor proporcional ao seu tempo de serviço e não poderá manter consigo sua arma, distintivo e carteira funcional;

(B) por cento e vinte dias, período no qual José fará jus ao recebimento de sua remuneração com valor proporcional ao seu tempo de contribuição e serão recolhidos seus bens patrimoniais, como arma, distintivo e carteira funcional;

(C) como medida acautelatória, e José terá sua arma, distintivo, carteira funcional ou qualquer outro bem patrimonial que mantenha mediante cautela devidamente recolhidos, caso tal providência ainda não tenha sido tomada;

(D) como medida de antecipação de pena, e José terá sua arma devidamente recolhida, caso tal providência ainda não tenha sido tomada, sendo mantidos consigo os demais bens patrimoniais, como distintivo e carteira funcional;

(E) como medida cautelar, e será vedado o recolhimento da arma, do distintivo, da carteira funcional ou de qualquer outro bem patrimonial público que José mantiver mediante cautela por força de prerrogativa legal.

8. FGV - 2022

O Governador do Estado Alfa consultou sua assessoria a respeito da possibilidade de encaminhar uma proposição à Assembleia Legislativa visando à alteração da Lei Orgânica do Ministério Público do respectivo Estado.

A assessoria respondeu corretamente que o Governador do Estado

(A) está legitimado, juntamente com o Procurador-Geral de Justiça, para apresentar o projeto de lei complementar, que deve se harmonizar às normas gerais veiculadas na lei complementar nacional.

(B) está legitimado, juntamente com o Procurador-Geral de Justiça, para apresentar o projeto de lei complementar, que deve se harmonizar às normas gerais veiculadas na lei ordinária nacional.

(C) não está legitimado, de modo que apenas o Procurador-Geral de Justiça pode apresentar o projeto de lei complementar, que deve se harmonizar às normas gerais veiculadas na lei ordinária nacional.

(D) está legitimado, juntamente com o Procurador-Geral de Justiça, para apresentar o projeto de lei ordinária, que deve se harmonizar às normas gerais veiculadas na lei complementar nacional.

(E) não está legitimado, de modo que apenas o Procurador-Geral de Justiça pode apresentar o projeto de lei ordinária, que deve se harmonizar às normas gerais veiculadas na lei ordinária nacional.

9. FGV - 2024

Em determinada comarca, foram detectados três problemas:

(1) um morador escutava música em volume acima do aceitável, o que incomodava o seu confrontante; (2) uma indústria emitia gases poluentes na atmosfera, sem qualquer filtragem prévia, o que causava problemas respiratórios em todos que moravam ou passavam pela cidade; e (3) os adquirentes do produto X, da sociedade empresária Y, reclamavam de falhas no seu funcionamento.

À luz das atribuições constitucionais do Ministério Público na área cível, a instituição deve atuar:

(A) em todas as situações descritas;

(B) somente nas situações 2 e 3;

(C) somente nas situações 1 e 3;

(D) somente na situação 2;

(E) somente na situação 1.

10. FGV - 2024

João, após encontrar com Matheus, amigo de infância, tomou conhecimento de que ele teria se tornado membro de uma instituição permanente, essencial à função jurisdicional do Estado, e que está incumbida de promover privativamente a ação penal pública, na forma da lei, além de defender a ordem jurídica, o regime democrático e os interesses sociais e individuais indisponíveis. Nesse cenário, considerando as disposições da Constituição Federal, é correto afirmar que Matheus é um membro

(A) da Defensoria Pública.

(B) do Ministério Público.

(C) da Advocacia Pública.

(D) do Poder Judiciário.

(E) da Advocacia.

11. FGV - 2024

Em uma investigação criminal conduzida pelo Promotor de Justiça da Comarca *Alfa*, foram requisitadas informações ao Secretário Municipal de Urbanismo do Município *Beta* a respeito dos alvarás de construção expedidos por esta estrutura orgânica nos dois últimos exercícios, em empreendimentos nos quais a sociedade empresária X figurava como construtora ou incorporadora.

Ao receber a requisição, o Secretário concluiu corretamente, à luz da sistemática constitucional, que o Promotor de Justiça

- (A) não pode conduzir investigações criminais.
- (B) pode ter acesso às informações requisitadas, desde que haja prévia autorização judicial.
- (C) pode conduzir as investigações e ter acesso às informações requisitadas, considerando o seu caráter público.
- (D) não pode ter acesso às informações requisitadas, por dizerem respeito a agentes privados, sendo cobertas pelo sigilo.
- (E) apenas pode usar essas informações caso algum órgão de Beta identifique a possível prática de ilícito e as encaminhe.

12. FGV - 2023

Ana, servidora de certo Ministério Público, recebeu três expedientes com a incumbência de realizar uma verificação preliminar em relação àqueles em que a Instituição, por imposição constitucional, deveria atuar. O expediente 1 versava sobre a necessidade de se proibir o despejo de resíduos sólidos, por uma indústria, em um rio. O expediente 2 versava sobre o desvio de recursos públicos em determinado órgão federal, o que exigia a punição dos responsáveis na esfera cível, pois a responsabilização penal e o ressarcimento do dano já foram promovidos. Por fim, o expediente 3 dizia respeito à emissão de sons, em nível superior ao permitido, em determinada residência situada na área urbana de certo Município, o que vinha causando grande incômodo ao único morador confrontante, de modo que deveriam ser adotadas medidas cabíveis para a cessação dessa emissão.

Em relação às atribuições constitucionais do Ministério Público, Ana concluiu **corretamente** que a Instituição deveria atuar

- (A) nos três expedientes, considerando a natureza dos bens jurídicos a serem tutelados, atuando como substituto processual dos respectivos titulares.

(B) apenas nos expedientes 1 e 2, sendo possível que o particular, preenchidos os requisitos constitucionais exigidos, também ajuíze uma ação para perquirir o objetivo do expediente 1.

(C) apenas os expedientes 1 e 3, considerando a natureza difusa dos bens jurídicos tutelados, o que caracteriza uma situação de atribuição do Ministério Público, não sendo possível que o particular busque a sua tutela em juízo.

(D) apenas o expediente referido em 1, considerando a natureza coletiva do respectivo bem jurídico, sendo possível que o particular, preenchidos os requisitos constitucionais exigidos, também ajuíze uma ação com o mesmo objetivo.

(E) apenas o expediente referido em 2, considerando a natureza difusa do bem jurídico tutelado, podendo a atuação se estender ao expediente 1 caso seja demonstrado que há relevância social, afetando o abastecimento de água da cidade limdeira ou comprometendo a fauna aquática.

13. FGV - 2023

Após regular investigação, a Polícia Civil do Estado Alfa colheu indícios de autoria, que foi atribuída a João, e prova da materialidade de determinado crime cuja persecução penal somente se iniciava mediante ação penal pública.

Nesse caso, considerando a sistemática constitucional, é **correto** afirmar que:

- (A) o ajuizamento da ação é de iniciativa privativa do Ministério Público, qualquer que seja a pena cominada;
- (B) em se tratando de infração penal cuja pena cominada seja inferior a cinco anos de reclusão, a ação penal é iniciada pelo juiz de Direito;
- (C) em se tratando de infração penal cuja pena cominada seja inferior a dez anos de reclusão, a ação penal é iniciada pela autoridade policial;
- (D) o procurador-geral de Justiça do Estado Alfa, caso acolha os termos da investigação, ajuizará a ação penal, indicando o membro da instituição que praticará os demais atos;
- (E) o processo penal em desfavor de João se inicia com o recebimento da investigação pelo Poder Judiciário, cabendo ao Ministério Público conduzir a acusação a partir de então.

NOÇÕES DE INFORMÁTICA

1. FGV - 2024

Com recursos de mobilidade cada vez mais disponíveis em notebooks e dispositivos semelhantes, é importante o cuidado com os dados armazenados.

O Windows 11 fornece um recurso de criptografia para volumes inteiros, abordando as ameaças de roubo ou exposição de dispositivos perdidos, roubados ou desativados inadequadamente, mitigando o acesso não autorizado a dados.

Esse recurso é o

- (A) BitLocker.
- (B) Regedit.
- (C) Mirroring.
- (D) RAID.
- (E) Defrag.

2. FGV - 2024

O Windows 11 instala por padrão um sistema de arquivos que oferece diversos recursos avançados, tais como permissões de arquivos, criptografia e compactação.

Este sistema de arquivos é o

- (A) FAT.
- (B) NTFS.
- (C) HPFS.
- (D) ExFAT.
- (E) Ext4.

3. FGV - 2024

Para instalar ou atualizar o Windows 11, os dispositivos devem atender os seguintes requisitos mínimos de hardware:

- (A) processador: 1 gigahertz (GHz) ou mais rápido com dois ou mais núcleos em um processador ou sistema compatível de 64 bits; memória: 4 gigabytes (GB) ou superiores; e armazenamento: 64 GB ou maior espaço em disco disponível;
- (B) processador: 2 gigahertz (GHz) ou mais rápido com dois ou mais núcleos em um processador ou sistema compatível de 32 bits; memória: 8 gigabytes (GB) ou superiores; e armazenamento: 256 GB ou maior espaço em disco disponível;

(C) processador: 2 gigahertz (GHz) ou mais rápido com dois ou mais núcleos em um processador ou sistema compatível de 64 bits; memória: 16 gigabytes (GB) ou superiores; e armazenamento: 128 GB ou maior espaço em disco disponível;

(D) processador: 1 gigahertz (GHz) ou mais rápido com dois ou mais núcleos em um processador ou sistema compatível de 32 bits; memória: 4 gigabytes (GB) ou superiores; e armazenamento: 64 GB ou maior espaço em disco disponível;

(E) processador: 2 gigahertz (GHz) ou mais rápido com dois ou mais núcleos em um processador ou sistema compatível de 64 bits; memória: 8 gigabytes (GB) ou superiores; e armazenamento: 64 GB ou maior espaço em disco disponível.

4. FGV - 2024

Sobre os sistemas operacionais Windows, analise as afirmativas a seguir:

I. O Windows 11 requer um chip TPM (Trusted Platform Module) versão 2.0 para poder ser instalado.

II. O Windows 11 eliminou a funcionalidade de áreas de trabalho virtuais, simplificando a gestão de janelas e aplicativos.

III. O Windows 11 apresenta um Menu Iniciar renovado e agora posicionado no centro da barra de tarefas, e não pode ser reposicionado.

IV. O Windows 11 introduziu novos recursos para trabalhar com múltiplas janelas, os Layouts de Ajuste (Snap Layouts) e Grupos de Ajuste (Snap Groups).

Está correto o que se afirma em

- (A) **I, II e III**, apenas.
- (B) **I e IV**, apenas.
- (C) **II, III e IV**, apenas.
- (D) **III e IV**, apenas.
- (E) **I, II, III e IV**.

5. FGV - 2024

Na versão Windows 11, um usuário, ao usar o atalho de teclado Windows + H, terá acesso

- (A) à digitação por voz.
- (B) à pesquisa.
- (C) ao histórico de transferência.
- (D) ao painel de *emojis*.
- (E) à visão de tarefas.

6. FGV - 2023

No Windows, há um conjunto de caracteres que não podem ser usados em nomes de pastas e arquivos.

Faz parte dessa lista de caracteres inválidos o caractere

- (A) -
- (B) \$
- (C) (
- (D) *
- (E) _

7. FGV - 2023

João recebe muitos *e-mails* durante o seu trabalho, e decidiu conectar um segundo monitor no seu notebook, de modo que possa visualizar a janela do *e-mail* enquanto trabalha com outros aplicativos na tela original do *notebook*.

O procedimento necessário para a utilização de um segundo monitor pode ser feito por meio do menu Iniciar na opção:

- (A) Acessórios do Windows/Ferramenta de Captura.
- (B) Configurações/Sistema.
- (C) Editor de Vídeo/Dispositivos Externos.
- (D) Explorador de Arquivos/Exibir.
- (E) Ferramentas Administrativas do Windows/Serviços.

8. FGV - 2023

José estava trabalhando em um documento quando, acidentalmente, colocou um conteúdo inadequado ao mesmo.

Assinale a opção que indica a combinação de teclas que José deve usar para desfazer imediatamente a última ação realizada no computador.

- (A) Alt + F4.
- (B) Ctrl+ Z.
- (C) Ctrl+ Alt + Del.
- (D) Ctrl+C.

9. FGV - 2022

Joana quer descobrir a capacidade, o espaço livre e o espaço usado do drive C: do seu notebook.

Para tanto, depois de clicar com o botão direito sobre o drive no *Explorador de Arquivos* do Windows, Joana deve usar a opção

- (A) Configurações.
- (B) Expandir.
- (C) Info.
- (D) Propriedades.
- (E) Recolher.

10. FGV - 2022

João preparou um documento no MS Word 2010 que contém três partes: a introdução, o corpo do texto e a bibliografia. A numeração das páginas deve reiniciar a cada uma dessas partes. João pode viabilizar esse efeito pelo uso do recurso:

- (A) *Dividir* na guia *Exibição*;
- (B) *Pincel de Formatação* na guia *Página Inicial*;
- (C) *Quebras* na guia *Layout da Página*;
- (D) *Símbolo* na guia *Inserir*;
- (E) *Sumário* na guia *Referências*.

11. FGV - 2022



João está digitando texto em um documento MS Word 2010 e precisa forçar uma quebra de linha sem iniciar um novo parágrafo, pois quer evitar o espaçamento entre parágrafos estabelecido no seu documento.




Assinale a combinação de teclas que permite essa operação.

- (A) Ctrl-Enter
- (B) End-Enter
- (C) Insert-Enter
- (D) PageDn-Ente
- (E) Shift-Enter

12. FGV - 2022

Em relação ao MS Word 2010, assinale a opção que indica o ícone da função que habilita a exibição de marcas de parágrafo e outros símbolos de formatação ocultos.

- (A) 
- (B)  S

- (C) 
- (D) 
- (E) 

13. FGV - 2022

No contexto do MS Word 2010, uma quebra de seção, acionada por meio da opção Quebras na guia Layout da Página, requer a escolha de um dos quatro modos distintos disponíveis.

Assinale a lista que contém esses modos.

- (A) Colunado, Contínuo, Próxima Coluna, Próximo Parágrafo.
- (B) Colunado, Próxima Página, Próximo Parágrafo, Repaginação.
- (C) Contínuo, Página Ímpar, Página Par, Próxima Página.
- (D) Contínuo, Próxima Coluna, Próxima Página, Repaginação.
- (E) Página Ímpar, Página Par, Próxima Coluna, Próximo Parágrafo.

14. FGV - 2022

Sobre o uso de tabelas no Word 2010, analise as seguintes afirmativas.

I. Não é possível mesclar células de diferentes linhas.

II. Em tabelas que se estendem por várias páginas, é possível repetir uma linha como cabeçalho em cada página.

III. É possível inserir uma nova tabela x numa célula de uma tabela y, mas nesse caso não é possível inserir uma nova tabela numa célula de x.

Somente está **correto** o que se afirma em

- (A) I.
- (B) II.
- (C) III.
- (D) I e II.
- (E) II e III.

15. FGV - 2022

Um usuário do MS Word 2010, após digitar um texto, clicou na tecla de função F7 com a finalidade de


- (A) salvar o texto.
- (B) exportar o texto.
- (C) imprimir o texto.
- (D) visualizar a impressão do texto.
- (E) verificar a ortografia e a gramática do texto.

16. FGV - 2022

Um usuário digitou, no MS Word 2010 BR, o texto a seguir:

“Prefeitura fechou ‘Dia D’ contra a influenza e o sarampo com mais de 60 mil doses aplicadas em Manaus.”

Depois disso, selecionou o texto, acionou algumas teclas de atalho equivalentes aos seguintes botões:



Desse modo, o texto passou a ter a seguinte formatação:

“Prefeitura fechou ‘Dia D’ contra a influenza e o sarampo com mais de 60 mil doses aplicadas em Manaus.”

As teclas de atalho acionadas foram

- (A) Ctrl+N e Ctrl+P
- (B) Ctrl+M e Ctrl+L
- (C) Ctrl+G e Ctrl+N
- (D) Ctrl+N e Ctrl+E
- (E) Ctrl+A e Ctrl+T

17. FGV - 2022

No controle de *Espaçamento de Linha e Parágrafo*, presente na guia *Página Inicial* do Word 2010, uma das opções é o *Controle de linhas órfãs/viúvas*.

Assinale a opção que mostra a caracterização correta de *linha órfã/viúva*.

- (A) Aparece desgarrada do restante do parágrafo.
- (B) É a única de um parágrafo.
- (C) É a única de uma página ou coluna.
- (D) Foi separada das demais do parágrafo pela inserção de uma figura.
- (E) Tem um espaçamento diferente das demais linhas de um parágrafo.

18. FGV - 2022

Sobre a função “Classificar”, disponível na guia Página Inicial do MS Word 2010 por meio de um ícone com as letras A e Z ao lado de uma seta vertical, considere as afirmativas a seguir.

I. Permite ordenar, em ordem crescente ou decrescente, números contidos em diferentes linhas de uma coluna de tabela.

II. Permite ordenar parágrafos em ordem alfabética, contidos em uma tabela ou não.

III. Permite ordenar em ordem alfabética as palavras de um parágrafo contido em uma tabela ou não.

Está **correto** somente o que se afirma em

- (A) I.
- (B) II.
- (C) III.
- (D) I e II.
- (E) II e III.

19. FGV - 2021

No MS Word, o comando *Ortografia e Gramática*, na guia Revisão, inicia a verificação da ortografia e da gramática no texto do documento em edição. Ao localizar um termo não encontrado no dicionário de referência, o Word oferece opções de como proceder.

Assinale a opção que não é oferecida como opção.

- (A) Adicionar ao dicionário.
- (B) Alterar.
- (C) Corrigir o dicionário.
- (D) Ignorar todas.
- (E) Ignorar uma vez.

20. FGV - 2024

Considere o trecho a seguir editado no Microsoft Word 2013 em português:

Dahlberg, em sua Teoria do Conceito (Dahlberg, 1981a, 1981b), sugere que um conceito é uma unidade de conhecimento, composto pelo referente, um termo que o denomina e um conjunto de características, que correspondem aos atributos do referente. Essas características podem ser essenciais (necessárias) e acidentais (adicionais ou possíveis) e são a base para a definição do *conceito*. A definição ajuda a compreender a natureza do *conceito* e suas relações com outros conceitos, de modo a que se possa posicioná-los de forma sistemático:

A teoria do conceito, voltada para o referente, e a teoria da classificação facetada contribuem para a elaboração de tesouros conceituais porque estabelecem bases para identificação dos conceitos, dos termos e das relações entre eles, e, ainda, para sua ordenação sistemática (Campos e Gomes, 2006, p. 2).

Esta formatação apresentada pelo texto realçado em negrito, muito utilizada em diversos padrões, pode ser obtida com as seguintes ações em sequência:

(A) selecionar o parágrafo desejado, acessar a régua no topo do documento, arrastar o marcador de ‘Recuo à esquerda’.

(B) executar um clique no texto desejado, clicar em ‘Alinhar à Direita’ ou usar a tecla de atalho CTRL-G.

(C) posicionar o ponteiro do mouse sobre o parágrafo e pressionar as setas do teclado para movê-lo à esquerda.

(D) acionar o comando ‘Adicionar ou remover bordas de sua seleção’, selecionar todo o texto e escolher a borda esquerda.

(E) clicar no início do parágrafo e usar o comando ‘Marcar Citação’ para recuar o texto na forma de citação.

21. FGV - 2024

No Microsoft Word 2013 em português, uma das ações que podemos realizar utilizando a caixa de diálogo ‘Configurar Página’ na guia Layout é

- (A) iniciar uma Mala Direta.
- (B) traduzir um texto para outro idioma.
- (C) inserir uma tabela.
- (D) definir as margens de um documento.
- (E) criar uma caixa de texto.

22. FGV - 2024

No Microsoft Word, um comentário é uma anotação sobre uma parte do documento. Ao inserir um comentário, este é posicionado, por padrão

- (A) no meio do texto como uma caixa de texto.
- (B) no lado direito de sua página.
- (C) no rodapé da página.
- (D) ao final do documento.
- (E) com destaque no alto da página atual.

NOÇÕES DE DIREITO ADMINISTRATIVO E CONSTITUCIONAL

1. FGV - 2024

João, policial militar, foi convocado para fazer o policiamento ostensivo durante a inauguração de uma obra realizada no Município *Alfa*, com a presença do prefeito da cidade e do governador do estado. Ao se apresentar para o serviço, o agente da lei percebe que não há, no local, qualquer promoção pessoal dos políticos presentes no evento. Na verdade, todas as informações atinentes à obra têm caráter educativo e informativo.

Considerando o entendimento doutrinário e jurisprudencial dominantes, se está diante de uma manifestação do princípio da:

- (A) proporcionalidade;
- (B) impessoalidade;
- (C) continuidade;
- (D) juridicidade;
- (E) legalidade.

2. FGV - 2024

Os princípios da Administração Pública são delineados no Art. 37 da Constituição Federal de 1988.

Assinale a opção que apresenta, **corretamente**, o princípio que estabelece que a Administração Pública está limitada a agir somente dentro dos parâmetros estabelecidos pela lei.

- (A) Impessoalidade.
- (B) Publicidade.
- (C) Moralidade.
- (D) Legalidade.
- (E) Eficiência.

3. FGV - 2022

A Secretaria de Segurança Pública do Estado Alfa deseja realizar campanha de caráter informativo e de orientação social relacionada à política pública de sua competência, mediante a instalação de outdoors pelo Estado.

De acordo com a Constituição da República, em tese, a publicidade pretendida é

(A) viável, mas dela não poderão constar nomes, símbolos ou imagens que caracterizem promoção pessoal de autoridades ou servidores públicos.

(B) inviável, porque tal publicidade caracteriza promoção pessoal, ainda que não haja referência a nomes, símbolos ou imagens de autoridades ou servidores públicos.

(C) inviável, porque tal publicidade caracteriza promoção pessoal e conseqüentemente improbidade administrativa, independentemente do emprego de verba pública.

(D) viável, e dela poderá constar nomes, símbolos ou imagens que caracterizem promoção pessoal de autoridades ou servidores públicos, desde que não haja verba pública envolvida.

(E) viável, e dela poderá constar nomes, símbolos ou imagens que caracterizem promoção pessoal de autoridades ou servidores públicos, desde que haja prévia autorização do chefe do Poder Executivo.

4. FGV - 2021

João é servidor público ocupante do cargo efetivo de assistente administrativo da Câmara Municipal de Aracaju e está lotado no setor de protocolo da Casa Legislativa, onde deve proceder ao recebimento e encaminhamento de documentos. Antônio compareceu ao citado setor para protocolizar um requerimento, mas João se recusou a receber o documento e expulsou o cidadão do recinto, em razão do fato de ser Antônio seu vizinho e antigo desafeto.

Na hipótese narrada, João violou diretamente o princípio constitucional expresso da administração pública da:

- (A) continuidade, eis que as atividades administrativas não podem sofrer qualquer tipo de interrupção;
- (B) impessoalidade, pois não pode discriminar usuários do serviço público, seja para benefício, seja para prejuízo;
- (C) competitividade, haja vista que todos os cidadãos devem ter as mesmas oportunidades de buscar a Câmara Municipal;
- (D) proporcionalidade, uma vez que a negativa de recebimento de documentos deve decorrer de decisão criminal;
- (E) autotutela, pois a expulsão de qualquer cidadão de órgão público deve ser precedida de processo administrativo.

5. FGV - 2021

Relacione os princípios para um serviço público de qualidade com suas respectivas definições.

1. Impessoalidade
2. Publicidade
3. Moralidade

() ser transparente em relação aos serviços e ações realizadas

() não fazer acepção a pessoas ao realizar um serviço

() possuir e aplicar valores de aceitação pública

Assinale a opção que mostra a relação correta, segundo a ordem apresentada.

- (A) 1 – 2 – 3.
- (B) 1 – 3 – 2.
- (C) 2 – 1 – 3.
- (D) 2 – 3 – 1.
- (E) 3 – 2 – 1.

6. FGV - 2024

Sobre os atos administrativos, analise as afirmativas a seguir.

I. É suficiente, para garantir a validade de um ato administrativo, a exposição de sua competência, finalidade e objeto.

II. A única e exclusiva finalidade de todo ato administrativo é o interesse público.

III. O objeto do ato administrativo pode não estar previsto expressamente na legislação e é através dele que a Administração exerce seu poder.

Está correto o que se afirma em

- (A) I, apenas.
- (B) II, apenas.
- (C) III, apenas.
- (D) I e II, apenas.
- (E) II e III, apenas.

7. FGV - 2024

1º cenário: *o Presidente da República indicou Caio ao cargo de Ministro do Supremo Tribunal Federal. Nesse contexto, após a aprovação pelo Senado Federal, Caio foi nomeado, tomando posse na Suprema Corte brasileira.*

2º cenário: *João, agente público competente, elaborou o parecer XYZ, que depende de visto da autoridade superior para produção dos seus efeitos.*

Com base nas situações narradas e considerando o entendimento doutrinário e jurisprudencial dominante quanto à formação dos atos administrativos, é correto afirmar que

(A) a nomeação de Caio para o Supremo Tribunal Federal se caracteriza como um ato administrativo complexo. Por sua vez, o parecer elaborado por João, que depende do visto da autoridade superior para produzir efeitos, é reputado um ato administrativo composto.

(B) a nomeação de Caio para o Supremo Tribunal Federal se caracteriza como um ato administrativo composto. Por sua vez, o parecer elaborado por João, que depende do visto da autoridade superior para produzir efeitos, é reputado um ato administrativo complexo.

(C) a nomeação de Caio para o Supremo Tribunal Federal se caracteriza como um ato administrativo composto. Por sua vez, o parecer elaborado por João, que depende do visto da autoridade superior para produzir efeitos, é reputado um ato administrativo simples.

(D) a nomeação de Caio para o Supremo Tribunal Federal e o parecer elaborado por João, que depende do visto da autoridade superior para produzir efeitos, caracterizam-se como atos administrativos complexos.

(E) a nomeação de Caio para o Supremo Tribunal Federal e o parecer elaborado por João, que depende do visto da autoridade superior para produzir efeitos, caracterizam-se como atos administrativos compostos.

8. FGV - 2021

Diante do acúmulo de serviço em razão da grande demanda em sua competência originária e com o objetivo de conferir maior eficiência e celeridade em questões administrativas, o Delegado-Geral de Polícia Civil do Estado Alfa praticou ato administrativo delegando sua competência para a Secretaria Executiva de Polícia decidir recursos administrativos hierárquicos.

O mencionado ato de delegação é:

(A) inválido, porque os atos previstos como de competência do Delegado-Geral não podem ser delegados, em respeito ao poder hierárquico;

(B) inválido, porque a legislação proíbe expressamente a delegação de decisão de recursos administrativos;

(C) lícito, porque a competência administrativa é imprescritível, improrrogável e irrenunciável;

(D) lícito, porque a competência é delegável, exceto nos casos de competência exclusiva definida em lei;

(E) lícito, porque a competência é delegável, exceto para a edição de atos normativos.

9. FGV - 2023

Tício, servidor público, praticou ato que não se insere no âmbito de sua competência. Posteriormente, o processo gerado a partir do referido ato foi encaminhado a Caio, servidor com efetiva competência.

No caso em tela, de acordo com a doutrina e a jurisprudência dominantes, é **correto** afirmar que, em regra:

(A) o ato é anulável, podendo ser convalidado para que os efeitos já produzidos sejam considerados válidos, aptos a produzir efeitos regulares;

(B) o ato é anulável, devendo ser convalidado em até cinco anos, sob pena de prescrição e impossibilidade de produção de efeitos;

(C) o ato é nulo, não podendo ser convalidado;

(D) são passíveis de convalidação tanto os atos evitados de vícios de competência em relação à pessoa como em relação à matéria;

(E) atos administrativos podem ser convalidados quando o defeito é sanável, não acarretando lesão ao interesse público, independentemente de prejuízo a terceiro e se houver decisão vinculada da administração sobre sua convalidação.

10. FGV - 2021

Valéria, agente comunitária de saúde do Município de Angra dos Reis, foi contratada após sucesso em processo seletivo realizado em abril de 2009. Em maio de 2018, o Município informou-a ter recebido comunicação do Tribunal de Contas do Estado recusando o registro de sua admissão, em razão de um vício relacionado à autoridade competente, determinando então o seu desligamento. Até então, Valéria vinha exercendo com primor suas atividades e nunca fora notificada a respeito do processo de registro de sua nomeação. Valéria observou que, no final de 2009, chegou à Corte de Contas a notícia, encaminhada pelo Município, de sua admissão e início do exercício de suas funções. O julgamento recusando o registro ocorrera em 2015.

À luz do caso concreto e da jurisprudência do Supremo Tribunal Federal sobre o tema, é **correto** afirmar que:

(A) motivada a ilegalidade em vício de incompetência, poderá haver a convalidação do ato de admissão, já que dela não decorrerá prejuízo a terceiros ou ao erário público;

(B) como a eficácia do ato de admissão de Valéria estava sujeita à condição resolutiva da análise de sua legalidade e registro pelo Tribunal de Contas do Estado, no exercício legítimo do controle externo, é cabível a devolução dos valores recebidos até o momento, por Valéria, a título de remuneração;

(C) Valéria deve permanecer no exercício de sua função pública pois, no caso, decorreu o prazo decadencial de cinco anos entre o ato administrativo que a admitiu na função pública de agente comunitária de saúde e o posterior julgamento de sua legalidade e registro pelo Tribunal de Contas do Estado;

(D) compete aos Tribunais de Contas dos Estados auxiliar o Poder Legislativo no controle externo da Administração Pública, o que inclui a apreciação da legalidade dos atos de admissão de pessoal, excetuadas as nomeações para cargos de provimento em comissão e para cargos da administração pública municipal, em observância ao princípio federativo;

(E) como, in casu, o controle do Tribunal de Contas do Estado ocorreu sobre a legalidade do ato inicial de admissão de agente público, hipótese em que o registro no órgão de controle integra a formação de ato administrativo complexo e não configura processo administrativo com a presença de litigantes, não havia, a rigor, necessidade de prévia intimação de Valéria para se manifestar acerca da ilegalidade de sua admissão à função pública de agente comunitária de saúde.

11. FGV - 2022

Duas entidades celebram um contrato de concessão de serviço público.

De acordo com o contrato, o parceiro privado deverá construir uma estrada e prestar os serviços de manutenção necessários para o seu bom funcionamento. Este será remunerado pela cobrança de pedágio dos usuários da estrada.

Por conta dos altos valores do pedágio, o parceiro público subsidia o projeto mediante contraprestação pública ao parceiro privado. O contrato representa uma

- (A) parceria público-privada na modalidade concessão patrocinada.
- (B) parceria público-privada na modalidade concessão administrativa.
- (C) concessão comum na modalidade concessão de serviço público.
- (D) concessão comum na modalidade concessão de serviço público precedida de execução de obra pública.
- (E) concessão comum na modalidade concessão de bem público.

12. FGV - 2024

Antes da celebração do contrato de parceria público-privada, deverá ser constituída sociedade de propósito específico, incumbida de implantar e gerir o objeto da parceria.

Nesse contexto, nos termos da Lei nº 11.079/2004, assinale a afirmativa **incorreta**.

- (A) À Administração Pública fica vedado ser titular da maioria do capital votante das sociedades de propósito específico.
- (B) A sociedade de propósito específico não poderá assumir a forma de companhia aberta, com valores mobiliários admitidos a negociação no mercado.
- (C) A sociedade de propósito específico deverá obedecer a padrões de governança corporativa e, conforme o regulamento, adotar contabilidade e demonstrações financeiras padronizadas.
- (D) A transferência do controle da sociedade de propósito específico estará condicionada à autorização expressa da Administração Pública, nos termos do edital e do contrato, observado o disposto no Art. 27, parágrafo único, da Lei nº 8.987/1995.
- (E) A vedação à Administração Pública ser titular da maioria do capital votante das sociedades de propósito específico não se aplica à eventual aquisição da maioria do capital votante da sociedade de propósito específico por instituição financeira controlada pelo Poder Público, em caso de inadimplemento de contratos de financiamento.

13. FGV - 2023

Leia o trecho a seguir.

O secretário do Tesouro Nacional do Ministério da Fazenda, Rogério Ceron, anunciou nesta quinta-feira (20 de abril de 2022) o novo marco para as parcerias público-privadas (PPPs), que tem potencial para gerar cerca de R\$ 100 bilhões em investimentos nos estados e municípios.

O trecho apresentado trata de um instrumento conhecido como Parceria Público-Privada (PPP), utilizado para a concessão de serviços públicos para a iniciativa privada e regido pela Lei nº 11.079/2004.

Assinale a opção que apresenta uma **exigência** desse instrumento.

- (A) O período de prestação do serviço deve ser de, no mínimo, 5 anos, e o valor do serviço não pode ser inferior a 10 milhões de reais.